

全国各类成人高等学校招生考试高起点历史地理

全真模拟(一)

本试卷分第I卷(选择题)和第II卷(非选择题)两部分。满分150分。考试时间120分钟。

Table with 5 columns: 题号, 一, 二, 总分, 统分人签字. Row 1: 分数

第I卷(选择题,共80分)

Table with 2 columns: 得分, 评卷人

一、选择题:1~40题,每小题2分,共80分。在每小题给出的四个选项中,选出一项符合题目要求的。

- 1. 司马迁编著的《史记》的体裁是... 2. 三国时期实行招抚流民、发展生产的土地制度是... 3. 科举制度创立于... 4. 下列赋税制度中,首次改变以人丁为主的征税标准的是... 5. 我国古代著名的历书《授时历》的作者是... 6. 元朝全国最高的行政机构是... 7. 鸦片战争爆发的根本原因是... 8. 1897年派军舰强占胶州湾,由此掀起了瓜分中国狂潮的是... 9. 在近代中国首先提出彻底的反帝反封建的民主革命纲领是在... 10. 抗日战争时期八路军创建的第一个抗日根据地是... 11. 西藏和平解放是在... 12. 中华人民共和国恢复在联合国的合法权利是在20世纪的... 13. 17世纪英国革命期间被送上断头台的君主是... 14. 马克思说,18世纪美国独立战争给欧洲资产阶级敲响了“警钟”,其含义是指独立战争... 15. 第一次世界大战的起止时间是...

- 16. 历史上对某次历史事件做出了这样的评价:它“改变了苏德战场的形势,大大鼓舞了世界各国人民”;“推动了整个战争形势的转变,是第二次世界大战的重要转折点。”这个历史事件是... 17. 美国内战前,南北双方矛盾的焦点是... 18. 1903年研制飞机并试飞成功的人是... 19. 1949年4月欧洲成立的国际组织是... 20. 下列各项中,哪些属于苏俄“战时共产主义政策”的内容... 21. 太阳的大气层,从里到外依次是... 22. 读图1,如果N是北极点,判断Q点在P点的... 23. 当北极圈上出现极夜时,此时... 24. 下列有关板块的叙述正确的是... 25. 造成气候差异的最基本因素是... 26. 中国、印度、美国、日本四个国家的人口现状是... 27. 我国为了充分发挥地区的资源优势,宜在... 28. 我国目前已经成为世界上受荒漠化危害最严重的国家之一,造成我国荒漠化日益严重的人为因素是... 29. 形成我国东部季风气候的主要原因是... 30. 京沪、京九、京广三条南北铁路干线都经过的省份是... 31. 下列选项属于因地制宜开发利用新能源的是... 32. 既是我国商品粮基地,又是我国商品棉基地的是... 33. 下列山脉中是平原和高原分界线的是...

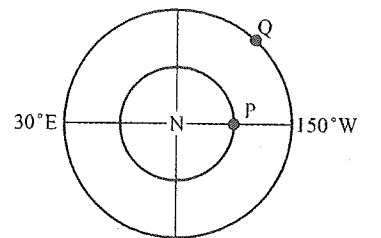


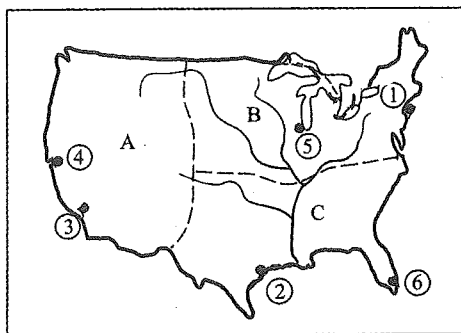
图1

34. 在古都洛阳和西安附近的旅游胜地分别是
 A. 龙门石窟和华山 B. 云冈石窟和恒山
 C. 秦俑馆和泰山 D. 白马寺和嵩山

35. 关于台湾地形、气候的叙述正确的是
 A. 东部是沿海平原, 由浊水溪、淡水河等河流冲积而成
 B. 台湾南部是亚热带季风气候, 北部是温带季风气候
 C. 东北部的火烧寮是我国降水量最多的地方
 D. 与同纬度大陆相比, 台湾夏季气温高, 冬季气温低

36. 从种族构成上看, 拉丁美洲主要是
 A. 白种人 B. 黄种人 C. 黑种人 D. 混血种人

37. 图2为美国本土工业分布图, 关于该图叙述正确的是

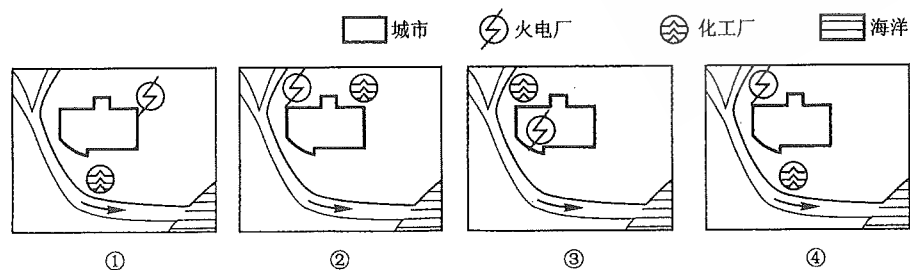


- 图2
 A. 图中A工业区中③和④均是新兴电子工业中心
 B. 图中B工业区铁矿资源丰富但煤炭资源匮乏
 C. 图中①、②和⑥均为石油和农产品输出港
 D. 图中⑤是美国著名的汽车工业中心

38. 下列关于印度的叙述, 正确的是
 A. 印度的耕地面积居亚洲各国第一位
 B. 印度的茶叶产区主要分布于恒河三角洲
 C. 印度的棉花产区主要分布于半岛东北部
 D. 印度主要黄麻产区位于降水较少的西北部

39. 关于南极洲的叙述, 正确的是
 A. 南极大陆被太平洋、大西洋、印度洋、北冰洋四大洋包围
 B. 南极大陆终年在极地高压的控制下, 气候寒冷、干燥
 C. 南极洲是世界上跨纬度最多的大洲
 D. 南极洲是世界上唯一没有环境问题的大洲

40. 图3为我国东南沿海某市规划建设一家化工企业和一个火电厂的方案图, 从环境保护角度考虑, 比较合理的是



- 图3
 A. ① B. ② C. ③ D. ④

第II卷(非选择题, 共70分)

得分	评卷人

二、非选择题: 41~46 小题, 共 70 分。

41. 阅读材料, 回答问题。(11分)

凡分田, 照人口, 不论男女, 算其家人口多寡, 人多则多分, 人寡则寡分, 杂以九等。……好丑各半。……务使天下共享天父上帝大福, 有田同耕, 有饭同食, 有衣同穿, 有钱同使, 无处不均匀, 无人不饱暖也。

——摘自《天朝田亩制度》

- (1) 上述制度是在中国近代哪一次革命运动中制定的?
 (2) 上述所引材料的主要内容是针对当时中国的什么背景而制定的?
 (3) 怎样评价这个制度?

42. 阅读材料, 回答问题。(12分)

材料一

从波罗的海斯德丁(什切青)到亚得里亚海边的里雅斯特, 一幅横贯欧洲大陆的铁幕已经降落下来。……无一不处在苏联的势力范围之内。

——摘自丘吉尔在富尔顿的演说

材料二

余相信美国之政策端在支持自由之民族以抵抗少数武装分子或外来压力之征服企图。

——摘自杜鲁门致国会的咨文

材料三

美国应该尽力协助世界回复至经济健全的常态……美国政府能尽力缓和局势, 协助欧洲走上复兴道路。

——摘自马歇尔在哈佛大学的演说

材料四

本公约各缔约国……决定联合一切力量, 进行集体防御。

——摘自《北大西洋公约》

- (1) 这四段材料反映的美英两国战后初期的外交政策是什么?
 (2) 根据材料二、三、四说出美国政策在政治、经济、军事方面的表现。
 (3) 针对材料四, 苏联采取了什么措施? 它的影响是什么?

43. 简述辛亥革命的历史意义。(12分)

44. 读图4, 分析回答问题。(10分)

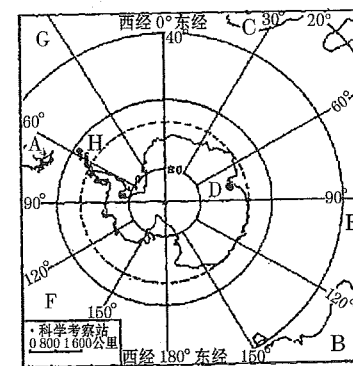


图4

- (1) 图中字母 A _____ 洲; B _____ 洲; C _____ 洲; E _____ 洋;
F _____ 洋; G _____ 洋。
- (2) D 是我国的南极科学考察站 _____ 站, H 是我国另一科学考察站 _____ 站。两站在一年中是否都有极昼极夜现象, 为什么?
- (3) 该大陆上最丰富的自然资源是 _____; 受 _____ 气压影响, 常年吹 _____ 时针方向的极地东风。
- (4) 每年 9 月—11 月该地上空会出现“臭氧空洞”, 其主要原因是人类活动释放 _____ 化合物, 它造成臭氧减少, 其危害有 ① _____, ② _____, 为了保护臭氧层, 应采取的措施是 _____。

45. 读图 5, 回答下列问题。(13 分)

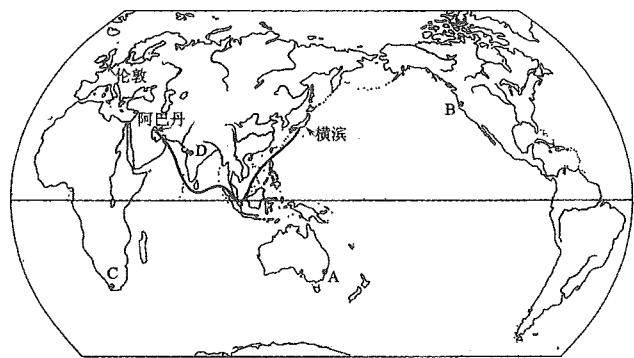


图 5

- (1) 由图中伊朗的阿巴丹至日本横滨的航海线, 沿途经过的重要海域和海峡名称, 依次有 _____。
- (2) 图中港口 D 为 _____ 港, 港口 C 为 _____ 港。
- (3) 一艘油轮由阿巴丹出发, 沿途经过红海、地中海、大西洋、北海, 到波罗的海沿岸的圣彼得堡, 沿途经过的海峡、运河依次有 _____。
- (4) 日本横滨某客轮跨太平洋去 B 海港, 沿途是顺风顺水还是逆风逆水? 请说明原因。

46. 读“钢铁工业生产与废弃物回收模式图”(图 6), 回答下列问题。(12 分)

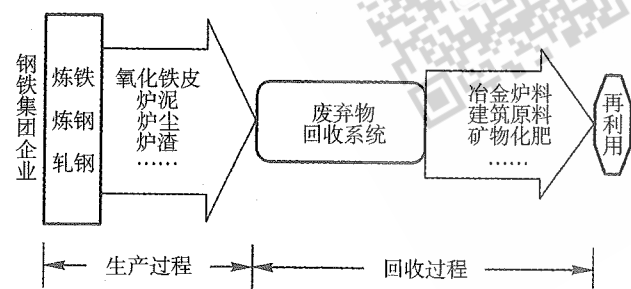


图 6

- (1) 读图说出钢铁工业在生产过程中可能带来的污染: _____、_____、_____。
- (2) 从工业布局类型看, 德国的鲁尔工业区属于 _____ 型; 我国上海的宝山钢铁工业属于 _____ 型。
- (3) 目前钢铁工业减少资源、能源消耗和环境污染的措施有 _____ (选填符合题意的三个选项的序号)。

- ①提高资源和能源利用率
②减少排放废弃物并进行无害化处理
③进行废弃物再利用
④大幅度增加钢铁替代品
- (4) 可持续发展包括 _____、_____、_____ 的可持续发展。

参考答案及解析

一、选择题

1. 【答案】 C
【应试指导】 本题考查司马迁编著的《史记》的体裁。《史记》是二十四史之首, 作者为西汉时期的司马迁, 其体裁是以记载帝王事迹的“本纪”和将相等著名人物事迹的“列传”为主, 简称其为“纪传体”。
2. 【答案】 A
【应试指导】 本题考查三国时期实行的土地制度。井田制成熟于西周时期, 屯田制出现于三国时期, 占田制是西晋实行的土地制度, 均田制是南北朝及隋唐时期实行的土地制度。
3. 【答案】 A
【应试指导】 本题考查科举制的创立。在隋朝, 隋文帝废除了九品中正制, 创立了科举制。
4. 【答案】 C
【应试指导】 本题考查两税法的相关知识点。780 年, 唐德宗接受宰相杨炎的建议, 实行两税法。它改变了自战国以来以人丁为主的赋役制度, 表明封建政府对农民的人身控制有所放松, 是我国封建社会赋税制度的一次重大改革和进步。
5. 【答案】 A
【应试指导】 本题考查《授时历》的作者。郭守敬是元代著名的天文学家 and 水利专家, 他编制的《授时历》比现行公历早 300 多年。
6. 【答案】 B
【应试指导】 本题考查元朝设置的最高行政机构。元朝时期的中书省上承天子, 下总百司, 统领六部, 为最高行政机关, 行使宰相职权。
7. 【答案】 C
【应试指导】 本题考查鸦片战争爆发的根本原因。英国于 18 世纪 60 年代到 19 世纪 40 年代完成了第一次工业革命以后, 生产力迅速提高, 需要更多的原料和市场, 这是鸦片战争爆发的根本原因。
8. 【答案】 D
【应试指导】 本题考查帝国主义掀起瓜分中国狂潮的开端。19 世纪末帝国主义瓜分中国的狂潮是由德国强占胶州湾开始的。
9. 【答案】 C
【应试指导】 本题考查有关中共二大的知识点。中国共产党于 1922 年在上海举行了第二次全国代表大会, 首次提出了彻底的反帝反封建的民主革命纲领。这是中国近代其他政党所不可能做到的。
10. 【答案】 A
【应试指导】 本题考查抗战时期八路军创建的第一个抗日根据地。1937 年 10 月 23 日, 聂荣臻奉命创建了第一个抗日根据地——晋察冀抗日根据地。
11. 【答案】 C
【应试指导】 本题考查西藏和平解放的时间。1951 年 5 月 23 日, 中央人民政府同西藏地方政府达成《关于和平解放西藏办法的协议》, 西藏获得和平解放。
12. 【答案】 A
【应试指导】 本题考查中华人民共和国恢复在联合国的合法权利的时间。1971 年 10 月, 第 26 届联合国大会以压倒多数通过决议, 恢复中华人民共和国在联合国的合法权利。
13. 【答案】 C
【应试指导】 本题考查有关英国资产阶级革命的知识点。17 世纪中期, 英国爆发了资产阶级革命, 推翻了国王查理一世的统治。国王查理一世于 1649 年被处死。
14. 【答案】 B
【应试指导】 本题考查美国独立战争的相关知识点。美国独立战争对法国大革命和拉丁美洲独立运动产生了积极影响。原因是它不仅是一场民族解放战争, 同时还是一次成功的资产阶级革命运动。
15. 【答案】 C
【应试指导】 本题考查第一次世界大战的起止时间。第一次世界大战爆发的导火线是 1914 年 6 月 28 日的萨拉热窝事件; 1918 年 10 月 11 日德国宣布投降, 标志着第一次世界大战的结束。
16. 【答案】 B
【应试指导】 本题考查第二次世界大战的转折点。1942 年 7 月, 德军进攻苏联重镇斯大林格勒, 斯大林格勒战役打响。1943 年 2 月, 斯大林格勒战役以苏军胜利而告终。斯大林格勒保卫战的胜利, 成为第二次世界大战的转折点。
17. 【答案】 D
【应试指导】 本题考查美国内战爆发前, 南北双方矛盾的焦点。因为南方奴隶制度的存在, 使得北方的资本主

义的发展受到自由劳动力、原料、市场等诸多因素的阻碍。因此南北双方矛盾的焦点是南方奴隶制的存废问题。这也是美国内战爆发的根本原因。

18. 【答案】C
【应试指导】 本题考查飞机的发明者。1903年,美国的莱特兄弟设计制造的飞机进行了成功的飞行,这是世界上首次实现重于空气航空器的有动力、可操纵飞行。
19. 【答案】B
【应试指导】 本题考查1949年4月成立的国际组织。1949年4月,以美国为首的西方12国代表,在华盛顿签订了《北大西洋公约》,成立了北大西洋公约组织,简称“北约”。
20. 【答案】B
【应试指导】 本题考查苏俄“战时共产主义政策”的内容。“战时共产主义政策”的内容有:国家把大中小企业都收归国有;实行余粮收集制,无代价地征收农民的剩余粮食;取消自由贸易,生活必需品均由国家统一配给;强制劳动,实行“不劳动者不得食”的原则。
21. 【答案】D
【应试指导】 本题考查太阳的外部结构等知识点。太阳大气按物理性质从里到外依次是光球层、色球层和日冕层。
22. 【答案】D
【应试指导】 本题考查地图上地理方向的判读等知识点。经线指示南北方向,纬线指示东西方向,从北极上空看,地球自转方向呈逆时针。据此可判断Q点在P点的东南方向。
23. 【答案】B
【应试指导】 本题考查地球公转的地理意义等知识点。当北极圈上出现极夜时,太阳直射南回归线。此时,地球运行至轨道的近日点附近;南极长城站在南极圈以外,没有极昼现象。
24. 【答案】A
【应试指导】 本题考查板块构造学说等知识点。红海位于非洲板块和印度洋板块之间;马来群岛位于亚欧板块和印度洋板块之间;阿拉伯半岛属于印度洋板块。
25. 【答案】D
【应试指导】 本题考查形成气候的因素等知识点。形成气候的因素主要有太阳辐射、大气环流和地面状况,其中太阳辐射是造成气候差异的最基本的因素。
26. 【答案】B
【应试指导】 本题考查世界人口等知识点。尽管我国目前的人口数量居世界第一位,但人口自然增长率却低于印度;印度处于人口数量快速增长的过程,因此低龄人口比重高;日本为发达国家,城市化水平高;人口密度 = $\frac{\text{人口总数}}{\text{面积总数}}$,在这四个国家中,美国地广人稀。
27. 【答案】C
【应试指导】 本题考查我国矿产资源的分布和影响工业布局的主要因素等知识点。根据我国矿产资源的地区分布优势,四个选项中,只有山西依靠煤炭资源优势,宜建立能源基地和以煤炭为原料的重化工基地。
28. 【答案】C
【应试指导】 本题考查我国西北地区荒漠化产生的原因等知识点。当前我国沙漠化日益严重,这与人类活动有密切关系,其主要人为因素有过度垦殖和过度放牧,植被遭到严重破坏。另外,在干旱和半干旱地区,水资源的不合理利用,也会导致环境条件恶化。
29. 【答案】A
【应试指导】 本题考查季风环流的形成原因等知识点。海陆热力性质差异是形成季风的重要因素,在亚洲东部季风环流最为典型。冬季,强大的亚洲高压与赤道低压、太平洋低压之间形成了势力强劲、干燥寒冷的偏北风,这就是冬季风。夏季,北太平洋高压势力大大增强,亚洲大陆上形成印度低压,太平洋暖湿气流便沿着北太平洋高压的西部边缘,以东南风吹到亚洲东南岸,这就是东亚的夏季风。
30. 【答案】A
【应试指导】 本题考查我国主要的南北铁路干线的分布等知识点。京沪、京九、京广三条铁路干线都经过的省份是河北省。京沪线不经过河南省;京广线不经过山东省、安徽省。
31. 【答案】C
【应试指导】 本题考查新能源的开发和利用等知识点。新能源主要包括核能、太阳能、地热、潮汐能等,常规能源主要包括生物能、煤炭、石油等。核电站建设,地区适应性强,适合建在能源匮乏,但又需要消耗大量能源的地区。
32. 【答案】A
【应试指导】 本题考查我国粮食作物、经济作物的分布等知识点。成都平原和松嫩平原是我国商品粮基地,但不是商品棉基地;黄淮平原是我国商品棉基地,但不是商品粮基地。
33. 【答案】B
【应试指导】 本题考查我国主要的山脉及其分布,四大高原和三大平原的分布等知识点。大兴安岭是内蒙古高原与东北平原的分界线;太行山脉西部为黄土高原,东部为华北平原。
34. 【答案】A
【应试指导】 本题考查我国著名旅游景观的分布等知识点。秦俑馆、华山位于陕西省;恒山、云冈石窟位于山西省;泰山位于山东省;白马寺、嵩山、龙门石窟位于河南省洛阳附近。
35. 【答案】C
【应试指导】 本题考查我国台湾地区的地形、气候等知识点。浊水溪、淡水河流经台湾西部平原;台湾南部是

热带季风气候,北部是亚热带季风气候;受海洋影响,与同纬度大陆相比,台湾冬季气温较高,夏季气温较低。

36. 【答案】D
【应试指导】 本题考查南美洲的居民等知识点。南美洲居民主要由混血种人、印第安人、白种人、黑种人构成,其中混血种人占一半以上。
37. 【答案】D
【应试指导】 本题考查美国主要的工业区和城市等知识点。美国经济发达,本土分为三个工业区。在A工业区中④为电子工业中心;B工业区煤炭和铁矿等资源为工业发展创造了条件;美国是石油进口国,不会有石油出口港;工业中心⑤是芝加哥著名汽车制造中心。
38. 【答案】A
【应试指导】 本题考查印度的概况等知识点。印度地势起伏小,垦殖率占国土面积50%以上,耕地面积居亚洲各国之首;茶叶分布于东北部的丘陵地区;棉花分布于印度降水较少的西部;黄麻分布于地势低平且多雨的恒河三角洲地区。
39. 【答案】B
【应试指导】 本题考查南极洲的位置特点、气候以及生态环境等知识点。南极大陆被太平洋、大西洋和印度洋包围;南极洲是世界上跨经度最多的大洲;南极附近出现了“南极臭氧层空间”的环境问题。
40. 【答案】A
【应试指导】 本题考查影响工业布局的因素等知识点。火电厂主要污染大气,因此应布局在常年盛行风的下风向,或与盛行风向相垂直的郊外。化工厂污染水体,应布局在河流下游。
- 二、非选择题
41. (1)太平天国运动。
(2)土地兼并严重。
(3)它是太平天国的革命纲领,反映了农民强烈要求废除封建土地所有制的强烈愿望,是几千年来农民反封建斗争理论水平的最高峰。但是,它企图在小农经济的基础上,平均分配社会财富,这是违反社会发展规律的,无法调动农民的生产积极性,只是一种无法实现的空想。
42. (1)冷战政策。
(2)政治方面是杜鲁门主义的提出,经济方面是马歇尔计划的实施,军事方面是签订《北大西洋公约》,并成立北大西洋公约组织。
(3)苏联和东欧社会主义国家于1955年签订《华沙条约》,并根据条约成立了华沙条约组织。“北约”和“华约”两大集团的建立,美、苏形成两极格局,对世界产生了巨大影响;一方面两强相争使世界长期不得安宁;另一方面,两大集团势均力敌,谁都不敢轻易动武,在近半个世纪里避免了新的世界大战的爆发。
43. (1)辛亥革命是中国近代史上一次伟大的反帝反封建的资产阶级民主革命。
(2)它推翻了两千多年的君主制度,建立了资产阶级共和国,颁布了反映资产阶级民主主义精神的临时约法。
(3)它使人民获得了一些民主、自由的权利,从此,民主共和的观念深入人心。
(4)它打击了帝国主义在华的殖民统治,为民族资本主义的发展创造了条件。
44. (1)南美 大洋 非 印度 太平 大西
(2)中山 长城 中山站有极昼极夜现象,长城站没有极昼极夜现象;因为中山站位于南极圈之内,长城站位于南极圈之外。
(3)淡水 极地高逆
(4)氟氯烃 危害人体健康 对生态环境和农牧渔业造成危害 停止生产和使用氟利昂制品
【应试指导】 (1)先确定南美洲、澳大利亚和非洲的位置,然后推断各大洋的位置。(2)因为中山站在南极圈以内,故有极昼极夜现象。(3)南极洲是冰雪覆盖的大陆,冰的体积占世界冰总体积的90%以上;南极大陆受极地高气压控制,外围吹逆时针方向的极地东风。(4)由于人们使用制冷设备时,释放出的氟氯烃化合物,上升到平流层后,通过光化学反应大量消耗臭氧。而大气中臭氧的主要作用是大量吸收太阳紫外线,保护地球上的生物。
45. (1)阿巴丹→波斯湾→霍尔木兹海峡→阿拉伯海→印度洋→马六甲海峡→南海→巴士海峡→太平洋→横滨
(2)孟买 开普敦
(3)阿巴丹→霍尔木兹海峡→曼德海峡→苏伊士运河→直布罗陀海峡→英吉利海峡→多佛尔海峡→北海→波罗的海运河(基尔运河)→圣彼得堡
(4)顺风顺水。原因:日本横滨与B海港位于北半球的西风带,在西风吹拂下形成了由西向东的北太平洋暖流。所以由横滨向东去B海港,是顺风顺水航行。
【应试指导】 本题考查考生对世界主要大洋、海域、海峡、运河空间位置的识记能力,同时还考查洋流流向和风向与远洋航行的关系等知识及相应的判断能力。
46. (1)大气污染 固体废弃物污染 水体污染(噪声污染,土壤污染)
(2)煤铁复合体 临海
(3)①②③
(4)经济 社会 生态
【应试指导】 本题以钢铁工业生产为背景,考查有关工业生产和可持续发展的知识。工业生产会产生“三废”,就钢铁工业来讲,主要会产生大气污染、水污染和固体废弃物污染,同时也会产生噪声污染和土壤污染等。工业布局有三种类型,即“煤铁复合体”“临海型”和“临空型”。德国的鲁尔区、美国的五大湖区均属“煤铁复合体”;我国上海的宝钢属于“临海型”;一些新兴的高科技产业,属于“临空型”,如美国的“硅谷”、日本的“硅岛”等。

全国各类成人高等学校招生考试高起点历史地理

全真模拟(二)

本试卷分第I卷(选择题)和第II卷(非选择题)两部分。满分150分。考试时间120分钟。

Table with 4 columns: 题号, 一, 二, 总分, 统分人签字. Row 1: 题号, 一, 二, 总分, 统分人签字. Row 2: 分数, , , ,

第I卷(选择题,共80分)

Table with 2 columns: 得分, 评卷人. Row 1: 得分, 评卷人. Row 2: ,

一、选择题:1~40题,每小题2分,共80分。在每小题给出的四个选项中,选出一项符合题目要求的。

- 1. 战国时期提出“民为贵”“君为轻”并主张实行“仁政”的思想家是 A. 墨子 B. 孟子 C. 荀子 D. 庄子
2. 我国历史上第一个统一的、多民族的、中央集权的封建王朝是 A. 夏 B. 秦 C. 西汉 D. 隋
... (questions 3-40) ...

- 15. 在巴黎和会上主张严厉处置德国的是 A. 英国 B. 法国 C. 美国 D. 日本
16. 第一次世界大战后,在东亚扩张问题上矛盾尖锐的两个帝国主义国家是 A. 英、美 B. 美、日 C. 英、日 D. 英、法
... (questions 17-23) ...

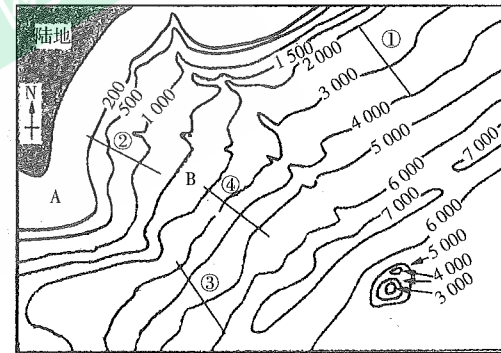


图1

- 24. 图中A地和B地的深度差值可能是 A. 1000米 B. 1300米 C. 2000米 D. 1400米
25. 图中①②③④四地段中坡度最大的是 A. ①地段 B. ②地段 C. ③地段 D. ④地段
... (questions 26-31) ...

32. 下列河流中,水位季节变化最大、汛期最短的河是 【 】
 A. 珠江 B. 长江 C. 黄河 D. 闽江
33. 陇海铁路与宝成、焦柳、京广、京沪四条铁路的交会点依次是 【 】
 A. 宝鸡、西安、郑州、徐州 B. 宝鸡、西安、洛阳、郑州
 C. 宝鸡、洛阳、郑州、开封 D. 宝鸡、洛阳、郑州、徐州
34. 下列地理事物的顺序反映我国热量由北向南变化规律的是 【 】
 A. 冬小麦—玉米—春小麦—水稻
 B. 亚麻—茶叶—油菜—剑麻
 C. 针叶林—针阔混交林—常绿阔叶林—落叶阔叶林
 D. 一年一熟—两年三熟—一年两熟—一年三熟
35. 我国煤炭和石油资源都很丰富的省区是 【 】
 A. 湖北、河南 B. 辽宁、山东 C. 黑龙江、山西 D. 安徽、吉林
36. 属于可更新的常规的一次能源是 【 】
 A. 煤、石油 B. 风能、核能 C. 水能、生物能 D. 沼气、电能
37. 图2中完全处于亚洲范围内的海峡是 【 】

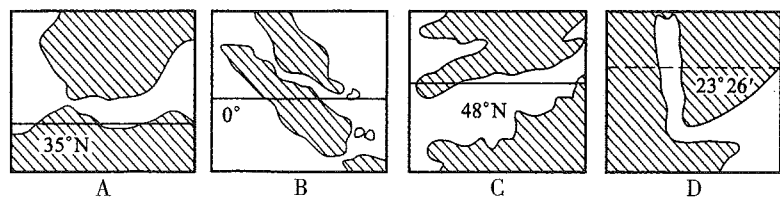


图2

38. 2012年12月1日,哈大客运铁路专线正式通车营运,影响其布局的主要因素是 【 】
 A. 气候 B. 地形 C. 经济 D. 科技
39. 下列叙述中,不正确的是 【 】
 A. 美国工业向西部、南部扩展 B. 德国工业自南部向北部扩展
 C. 俄罗斯工业向东部扩展 D. 日本工业向南北两端扩展
40. 四川盆地与准噶尔盆地的共同点是 【 】
 A. 都位于地势的第二级阶梯上 B. 都有绿洲农业
 C. 都属外流区域 D. 都分布有丰富的煤、铁、石油资源

第II卷(非选择题,共70分)

得分	评卷人

二、非选择题:41~46小题,共70分。

41. 阅读材料,回答问题。(11分)

材料

- 第一章 ……中华民国之主权属于国民全体……
 第三章 中华民国之立法权,以参议院行之……
 第四章 (总统由参议院选举产生),临时大总统代表临时政府,总揽政务,公布法律……
 第六章 法官独立审判,不受上级官厅之干涉。

——摘自《中华民国临时约法》

- (1)该文件是何人于何时何地颁布的?
 (2)根据材料分析文件所规定的政治制度类似于国际上的哪种类型。
 (3)当时颁布该文件的直接目的是什么?
 (4)该文件的性质及意义如何?
42. 阅读材料,回答问题。(12分)
- 材料一
 市场总是在扩大,需求总是在增加。工场手工业再也不能满足这种需求了。于是,蒸汽和

机器就引起了工业中的革命。

——摘自《共产党宣言》

材料二

资产阶级在它的不到一百年的阶级统治中所创造的生产力,比过去一切时代所创造的全部生产力还要多,还要大。

——摘自《共产党宣言》

材料三

新生的工业能够这样成长起来,只是因为它用机器代替了手工工具……把居民间的一切差别化为工人和资本家之间的对立。

——摘自《英国工人阶级状况》

材料四

资产阶级,由于一切生产工具的迅速改进,由于交通的极其便利,把一切民族甚至最野蛮的民族都卷进文明中来了。它的商品的低廉价格,是它用来摧毁一切万里长城……的重炮。它迫使一切民族……采用资产阶级的生产方式……它按照自己的面貌为自己创造出一个世界。

——摘自《共产党宣言》

- (1)工业革命首先在哪个国家发生?在这个国家发生的理由除了材料一所举的内容外,还有哪些?
 (2)工业革命的影响和后果是什么?(不得摘抄材料原文)
43. 第二次工业革命主要表现在哪些方面?各举一例说明。(12分)
44. 读地球绕日公转示意图(图3),回答下列问题。(10分)
- (1)A点的日期是_____,B点的节气(北半球)是_____,C点的季节(北半球)是_____,D点的日期是_____。
 (2)当地球由B运行到C的过程中,其极昼范围由_____向_____逐渐扩大。
 (3)当地球由A运行到B的过程中,其公转速度的变化状况是_____。
 (4)当地球由D运行到A的过程中,太阳直射点由_____向_____逐渐移向_____。
45. 读图4,回答下列问题。(13分)

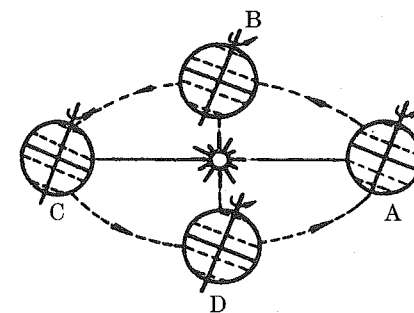


图3

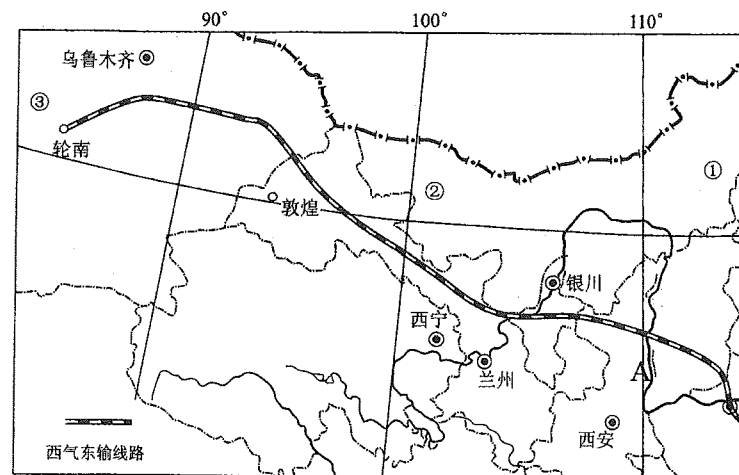


图4

- (1)图中所示西气东输线路依次(自西向东)经过_____、_____、_____、_____、_____等6个省区。
 (2)图中①—②—③自然植被类型呈现_____—荒漠草原—_____的变化趋势,造成这种

密封线内不要答题

变化的主导因素是_____。

(3)关于图中③地区自然地理环境特征的描述正确的是_____ (选择填空)。

- A. 气候干旱,属于温带季风气候
- B. 地形主要是高山和盆地,地貌流水侵蚀作用明显
- C. 以荒漠景观为主,山地中分布有森林及草甸植被
- D. 以内流河为主,径流多以雨水补给为主

(4)黄河在 A 河段含沙量陡增,该河段流经地区最突出的环境问题是_____,并简要分析产生该环境问题的主要自然原因。

(5)请简要说明西气东输工程建设对东部地区发展的有利影响。

46. 读图 5,完成下列要求。(12 分)

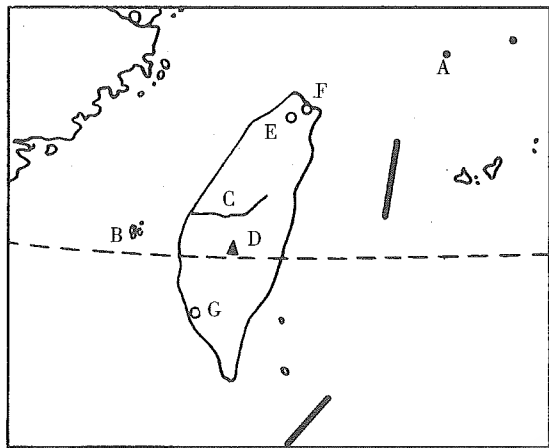


图 5

(1)填注图中地理事物名称:

A _____ 岛、B _____ 列岛、C _____ 溪、D _____ 山。

(2)台湾最大城市是_____ (图中字母_____);台湾最大港口和第二大城市_____ (图中字母_____);台湾重要海港和渔业基地_____ (图中字母_____).

(3)从图中有关内容可判断台湾地形东部_____,西部_____;气候类型:北部为_____,南部为_____。

参考答案及解析

一、选择题

1.【答案】B

【应试指导】本题考查战国时期孟子的思想主张。孟子名轲,邹国人,著有《孟子》,主张实行仁政,强调“民为贵,君为轻”。

2.【答案】B

【应试指导】本题考查我国第一个统一的、多民族的、中央集权的封建王朝。公元前 230—公元前 221 年,秦王嬴政灭掉六国,建立了历史上第一个统一的、多民族的、中央集权的封建王朝——秦朝。

3.【答案】B

【应试指导】本题考查科学著作《梦溪笔谈》的相关知识点。《梦溪笔谈》是北宋著名科学家沈括的著作,他被研究中国科技史的英国专家李约瑟称之为“中国科技史上最卓越的人物”;其著作《梦溪笔谈》被称为“中国科学史的里程碑”。

4.【答案】C

【应试指导】本题考查金政权的建立者。1115 年,女真部的完颜阿骨打在会宁称皇帝,国号金。

5.【答案】C

【应试指导】本题考查我国资本主义生产关系的萌芽出现的时期。由于明朝前期农业、手工业、商业的繁荣和

发展,在江南商品经济比较发达的地区产生了资本主义生产关系的萌芽。这是中国历史上的新现象。

6.【答案】B

【应试指导】本题考查林则徐被称为近代中国“开眼看世界”第一人的原因。林则徐认识到鸦片的危害,领导了禁烟运动,所以我们称他为民族英雄;林则徐积极了解西方国家的情况,迈出了向西方学习的第一步,所以我们称他是近代中国“开眼看世界”的第一人。

7.【答案】B

【应试指导】本题考查在第二次鸦片战争中,火烧圆明园的侵略者。1860 年,英法联军攻占天津,进逼北京,一路烧杀抢掠,占领北京。在这次战争中,英法联军洗劫并焚毁了北京西郊举世闻名的皇家园林——圆明园。

8.【答案】D

【应试指导】本题考查洋务派创办的洋务企业。洋务派在洋务运动期间,兴办的军事工业有安庆内军械所、江南制造总局、福州船政局等;民用工业有轮船招商局、汉阳铁厂、湖北织布局等。

9.【答案】B

【应试指导】本题考查新文化运动中,“民主”“科学”口号的提出者。1915 年,陈独秀在上海创办青年杂志,发表《敬告青年》一书,首先提出了“民主”“科学”的口号。

10.【答案】C

【应试指导】本题考查“八七”会议的内容。1927 年 8 月 7 日,中共中央在汉口秘密召开会议,即“八七”会议。会议纠正了陈独秀的右倾机会主义错误,确定了开展土地革命和武装反抗国民党反动派的总方针。会上,毛泽东提出“政权是由枪杆子中取得的”思想。“三湾改编”是秋收起义过程中进行的内容。

11.【答案】B

【应试指导】本题考查百团大战的指挥者。1940 年下半年,彭德怀指挥八路军 100 多个团,在华北发动一次大规模对日作战,称为百团大战。百团大战打击了日军的侵略气焰,大大提高了共产党和八路军的威望,坚定了全国人民抗战胜利的信心。

12.【答案】C

【应试指导】本题考查造成 1959—1961 年我国国民经济严重困难的主要原因。主要由于“大跃进”和“反右倾”斗争的错误,加上当时的自然灾害和苏联政府背信弃义撕毁合同、撤走全部专家,中国国民经济在 1959—1961 年发生严重困难。

13.【答案】A

【应试指导】本题考查第一次工业革命首先发生的行业。18 世纪 60 年代,英国开始了第一次工业革命,这次工业革命首先出现于工场手工业最发达的棉纺织业。

14.【答案】C

【应试指导】本题考查美国独立战争的相关史实。波士顿倾茶事件发生在 1773 年,第一届大陆会议召开于 1774 年的费城,莱克星顿的枪声发生在 1775 年 4 月,《独立宣言》发表于 1776 年 7 月 4 日。

15.【答案】B

【应试指导】本题考查在巴黎和会上主张严厉处置德国的国家。由于普法战争法国战败,第一次世界大战法国遭到破坏最为严重,法国和德国较长的边界线等因素,因此法国成为巴黎和会上主张严厉处置德国的国家。

16.【答案】B

【应试指导】本题考查第一次世界大战后,帝国主义国家间的矛盾。日本借第一次世界大战欧洲列强忙于战争之机,迅速在中国扩大其势力,引起美国的不满。巴拿马运河开通以后,争夺亚洲霸权也成为美国的目标。再加上一战后美国的经济军事实力大增,这样在争夺东亚的霸权问题上,美日矛盾逐渐尖锐起来。

17.【答案】C

【应试指导】本题考查最早建立法西斯专政的国家。日本于 1936 年建立法西斯专政,德国于 1933 年建立法西斯专政,意大利于 1922 年建立法西斯专政,维希政府成立于 1940 年 6 月,是法国战败投降后贝当建立的傀儡政权。

18.【答案】A

【应试指导】本题考查国际工人协会成立的地点。1864 年,国际工人协会在伦敦的圣马丁堂成立。国际社会主义者代表大会即第二国际在巴黎成立。

19.【答案】B

【应试指导】本题考查《开罗宣言》的内容。开罗会议是第二次世界大战中中国政府首脑与美英两国首脑共同参加的一次重要会议,中国抗日战争对整个国际反法西斯战争的贡献和作用,得到美英两国领导人的认同,他们一致同意要求日本将窃取的东北、台湾、澎湖列岛等归还给中国。因此开罗会议和《开罗宣言》对中国具有重大意义。

20.【答案】D

【应试指导】本题考查东欧剧变的相关知识点。东欧剧变大多是通过自由选举的和平方式进行解决,而仅有罗马尼亚发生流血冲突导致政权更替。

- 21.【答案】C
【应试指导】本题考查东西半球的划分等知识点。划分东、西半球的经线是西经20°和东经160°。
- 22.【答案】C
【应试指导】本题考查七大洲和四大洋的分界线等知识点。白令海峡既是亚洲和北美洲的分界线,又是北冰洋和太平洋的分界线。
- 23.【答案】B
【应试指导】本题考查热带草原气候的形成原因等知识点。热带草原气候分为湿季和干季,当赤道低气压带控制时,降水增多,形成湿季;当来自副热带高气压带的信风吹过来时,气流干燥,形成干季。
- 24.【答案】D
【应试指导】本题考查相对高度的计算等知识点。由图可知 $0 < A < 200$ 米, $1\ 500$ 米 $< B < 2\ 000$ 米,可求得两地的深度差值在1 300~2 000米。
- 25.【答案】D
【应试指导】本题考查等高线等知识点。读图可排除②地段;在等高距相同的情况下,等高线越密集坡度越大,④地段的等高线较①③地段更密集,所以④地段的坡度最大。
- 26.【答案】B
【应试指导】本题考查水源对农业生产的影响等知识点。河西走廊的农业生产依赖祁连山的冰雪融水及地下水;宁夏平原和河套平原的农业生产是引黄河水进行灌溉的。
- 27.【答案】D
【应试指导】本题考查地中海的气候特征等知识点。当地中海沿岸温和多雨时,应是北半球的冬季,亚洲大陆受冷高压控制,北半球大陆等温线向南凸出,广州进入低温少雨季节。位于南半球的巴西高原是热带草原气候,此时正值湿季,植物郁郁葱葱。
- 28.【答案】A
【应试指导】本题考查巴西是世界上主要的农产品出口国等知识点。巴西主要出口的农产品有咖啡、大豆、蔗糖等,其中咖啡产量和出口量居世界首位,素有“咖啡王国”之称。
- 29.【答案】D
【应试指导】本题考查能源的生产和消费等知识点。英国石油资源丰富,能够满足本国能源需求。
- 30.【答案】B
【应试指导】本题考查东南亚富饶的物产等知识点。马来西亚锡的产量和出口量均占世界首位,马来西亚油棕的产量和出口量也占世界首位;东南亚盛产椰子的国家是菲律宾;泰国和缅甸是稻米的主要生产国和出口国。
- 31.【答案】D
【应试指导】本题考查我国的陆上邻国等知识点。泰国、乌兹别克斯坦、孟加拉国均不与我国相邻。
- 32.【答案】C
【应试指导】本题考查我国主要河流的水文特征等知识点。珠江、长江、黄河和闽江四条河流中,黄河主要流经西北和北方地区,水位季节变化最大,汛期最短。
- 33.【答案】D
【应试指导】本题考查我国主要铁路干线的分布等知识点。根据与陇海铁路相交的铁路线——宝成线、焦柳线、京广线和京沪线分析,这四个交会点城市自西向东依次是宝鸡、洛阳、郑州和徐州。
- 34.【答案】D
【应试指导】本题考查热量对我国农作物、耕作制度、自然景观的影响等知识点。大体上,我国长城以北、青藏高原以北地区为春小麦产区,长城以南、青藏高原以东为冬小麦产区,排除A;油菜主要分布在长江流域,而茶叶主要分布在西南和华南地区,排除B;常绿阔叶林分布在亚热带季风气候区,落叶阔叶林分布在温带季风气候区,排除C。
- 35.【答案】B
【应试指导】本题考查我国能源(煤炭和石油)的分布等知识点。四个选项中,湖北的煤炭和石油储量都不丰富;山西的煤炭储量虽大,但石油储量并不丰富;安徽的石油储量不丰富。正确答案为B。
- 36.【答案】C
【应试指导】本题考查能源的分类等知识点。一次能源是指从自然界直接取得的能源。核能和电能非一次能源,排除B、D两项。在一次能源中,可更新的常规能源是水能和生物能。
- 37.【答案】B
【应试指导】本题考查世界重要海峡的位置等知识点。A项为直布罗陀海峡,B项为马六甲海峡,C项为英吉利海峡,D项为曼德海峡。曼德海峡是亚洲、非洲的分界线,不完全属于亚洲。
- 38.【答案】C
【应试指导】本题考查影响铁路线布局的因素等知识点。促进哈尔滨和大连两地经济发展是建设此交通线的最重要目的。

- 39.【答案】B
【应试指导】本题考查世界工业布局的变化等知识点。近年来,世界主要工业国的工业分布,出现了由集中到分散的新趋向,四个选项中,美国、俄罗斯和日本的工业移动方向正确。
- 40.【答案】A
【应试指导】本题考查我国的四大盆地等知识点。四川盆地没有绿洲农业;准噶尔盆地属于内流区域;煤、铁资源在四川盆地与准噶尔盆地储量并不丰富。
- 二、非选择题
41. (1)孙中山,1912年3月,南京。
(2)美国等三权分立的共和制类型。
(3)为了限制袁世凯的权力。
(4)这是中国历史上第一部资产阶级民主宪法,具有反对封建专制制度的进步意义。
42. (1)英国。资产阶级统治在英国的确立,为工业革命的开展提供了必要的前提;圈地运动和殖民地掠夺奴隶贸易为工业革命准备了大量的资金、原料、劳动力;工场手工业时期积累了大量生产技术和科学知识以及大批有实践经验的工人和技师。
(2)使社会生产力迅速提高,巩固了资本主义各国的统治基础;使社会分裂为资产阶级和无产阶级;工业革命把劳动力从农村引向城市,开始了城市化进程;大大密切了世界各地之间的联系,确立了资产阶级对世界的统治,改变着世界的面貌;加剧了殖民地的贫困落后,使东方从属于西方。
43. (1)电力和石油等新能源的发展和利用。发电机、电灯的发明。
(2)内燃机的发明及其在交通运输方面的应用。汽车、飞机的发明。
(3)通讯事业的发展。电话、电报的发明。
(4)化学工业的建立。炸药的发明。
44. (1)12月22日前后 春分日 夏季 9月23日前后
(2)北极 北极圈
(3)由A到近日点时渐快,由近日点到B时渐慢
(4)赤道 南 南回归线
【应试指导】本题是对地球公转运动的考查。解答该题的思路有三条:第一,掌握本图中A、B、C、D四处所代表的日期、节气和这四天太阳直射点的位置;第二,掌握地球绕日公转的方向,近日点和远日点时地球在公转轨道上的位置;第三,掌握地球上正午太阳高度和昼夜长短的变化规律。(1)问中,A点的地球北极背向太阳,太阳直射南回归线,这一天为12月22日前后,即冬至日。根据地球公转方向和季节变化顺序,B点为春分日,C点的季节是夏季,D点是秋分日,即9月23日前后。(2)问中,地球运动由B到C,太阳直射点从赤道移向北回归线,北极附近的极昼范围在不断扩大。(3)问中,已知A点为12月22日前后,近日点的日期是1月初。根据地球公转速度在近日点附近变快,在远日点附近变慢的规律,可知,由A到近日点时地球公转速度渐快,由近日点到B时地球公转速度渐慢。(4)问中,地球运行由D到A的过程中,太阳直射点由赤道向南回归线移动。
45. (1)新疆 甘肃 宁夏 陕西 山西 河南
(2)草原 荒漠 水分
(3)C
(4)水土流失 降水集中且多暴雨;地形破碎起伏大;土质疏松;植被稀疏。
(5)有利影响:对东部地区,可以减轻能源压力,调整能源消费结构,有利于环境质量的改善。
【应试指导】该题以西气东输为背景,综合考查有关行政区划、自然带、环境问题等相关问题,综合性较强,要求考生对相关知识的掌握要到位。我国西北地区位于中纬度地区,是从沿海向内陆地域分异最明显的表现地带,受水分条件影响,①②③三地自东向西依次为草原—荒漠草原—荒漠。新疆地区深居内陆,远离海洋,降水量少,气候呈现以干旱为主的特征,属于温带大陆性气候,由此影响其他自然地理要素,因降水少,外力作用的主要动力为风,风力侵蚀和风力堆积地貌最明显;地表植被以荒漠为主,在山地地区,受垂直地带因素的影响形成森林或高山草甸植被;受气候因素制约,该地河流流量小,流程短,多为内流河,补给类型以高山积雪和冰川融水补给为主。黄河A河段因流经黄土高原地区,而导致含沙量增加,主要原因是黄土高原地区夏季暴雨集中,且该地区地形起伏大,黄土的土质疏松,垂直节理发育,易随水流失,加上地表缺乏植被保护,故而形成水土流失这一突出的环境问题。西气东输主要改善了东部地区的环境,同时能够减轻能源的压力。
46. (1)钓鱼 澎湖 浊水 玉
(2)台北 E 高雄 G 基隆 F
(3)高低 亚热带季风气候 热带季风气候
【应试指导】本题是对宝岛台湾地理的考查。本题的(1)和(2)问容易回答。(3)问中,台湾岛的山地约占2/3,主要分布在中部和东部,玉山为最高峰。西部是平原。台湾地区有两种气候类型,大约以北回归线为界,南部是热带季风气候,北部是亚热带季风气候。

全国各类成人高等学校招生考试高起点历史地理

全真模拟(三)

本试卷分第I卷(选择题)和第II卷(非选择题)两部分。满分150分。考试时间120分钟。

Table with 4 columns: 题号, 一, 二, 总分, 统分人签字. Row 1: 题号, 一, 二, 总分, 统分人签字. Row 2: 分数, , , ,

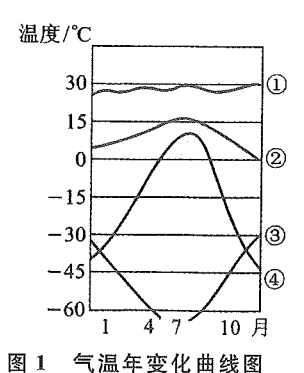
第I卷(选择题,共80分)

Table with 2 columns: 得分, 评卷人. Row 1: 得分, 评卷人. Row 2: ,

一、选择题:1~40题,每小题2分,共80分。在每小题给出的四个选项中,选出一项符合题目要求的。

- 1. 我国最早的奴隶制国家政权是... 2. 下列各项关于汉武帝政绩的叙述,不正确的一项是... 3. 世界上最早采用全身麻醉法的医生是... 4. 建议实行两税法的唐朝宰相是... 5. 元朝设置的管辖澎湖和台湾的机构是... 6. 1662年郑成功从下列哪个殖民者手里收复了台湾... 7. 1885年大败法军取得镇南关大捷的清军将领是... 8. 戊戌变法的历史功绩主要在于... 9. 中国新民主主义革命的开端是... 10. 在新文化运动中,发表《文学改良刍议》的是... 11. 抗日战争开始后中国军队取得的第一次大捷是... 12. 1960年中国共产党提出“调整、巩固、充实、提高”的八字方针,目的是...

- 13. 在第一次工业革命中为近代交通事业做出贡献的有... 14. 新航路开辟的最根本原因是... 15. 《共产党宣言》发表于... 16. 19世纪60年代,签署废除农奴制度法令的俄国沙皇是... 17. 第二次世界大战后期,美英盟军在法国诺曼底登陆,开辟了欧洲第二战场,这实践了... 18. 第二次世界大战中,世界反法西斯统一战线建立的标志是... 19. 在向帝国主义过渡的过程中,日本的特征是... 20. 推动欧洲共同体成立的根本原因是... 21. 关于太阳活动对地球的影响叙述正确的一组是... 22. 关于下列地质现象的叙述错误的是... 23. 位于我国地势第三级阶梯、主要由内力作用形成的地形有... 24. 图1为四条气温年变化曲线,关于该图的描述,正确的是... 25. 下列洋流属于西半球中低纬度大陆东岸的是... 26. 赤道和北极圈都穿过的大洲是...



得分	评卷人

二、非选择题: 41~46 小题, 共 70 分。

27. 关于世界最大的内陆国的叙述正确的是]
- A. 与我国是邻国, 有亚欧第二大陆桥穿过
B. 深居内陆, 境内只有内流河
C. 咸海全部位于境内, 锡尔河沿岸是主要农业区
D. 卡拉库姆沙漠位于境内
28. 世界上产羊毛最多的国家是]
- A. 阿根廷 B. 新西兰 C. 澳大利亚 D. 南非
29. 关于巴西的叙述, 正确的是]
- A. 咖啡、蔗糖、香蕉、蕉麻等热带经济作物的产量居世界第一位
B. 农矿业在国民经济中的比重已大大超过工业
C. 最大的工业中心是南美洲最大的城市
D. 东南部人口稠密, 因为这里属于温带海洋性气候
30. 北回归线从东向西依次穿过的我国省级行政区是]
- A. 广东、广西、海南、云南 B. 台湾、广东、广西、云南
C. 台湾、福建、广东、海南、广西 D. 云南、广西、广东、福建、台湾
31. 计划生育是我国的一项长期国策, 但每年净增人口数量仍很多, 其原因是]
- A. 人口出生率高 B. 人口死亡率低
C. 没有执行计划生育 D. 人口基数大
32. 以接近消费市场为布局因素的工业是]
- A. 甘蔗制糖 B. 电子工业 C. 炼铝工业 D. 家具制造
33. 我国北方用“温室大棚”能够反季节种菜, 原因是改变了下面的哪个条件]
- A. 热量 B. 水分 C. 土壤 D. 光照
34. 地跨北方地区、南方地区、西北地区、青藏地区的省是]
- A. 青海 B. 四川 C. 陕西 D. 甘肃
35. 在我国的能源消费构成中占第二位的是]
- A. 石油 B. 煤炭 C. 水能 D. 天然气
36. 关于我国青藏地区的叙述, 正确的是]
- A. 青藏高原太阳辐射强是因为有太阳直射现象
B. 有全球面积最大的高原和独特的高寒气候
C. 季风与非季风区, 外流区与内流区的界限均通过本区
D. 是黄河、长江、印度河和恒河等河流的发源地
37. 下列工业分布与其工业布局趋向和格局的正确组合是]
- A. 英国阿伯丁的石油工业——“临海型”的新布局方式
B. 中国甘肃金昌有色金属工业——在新原料基地出现的新工业中心
C. 美国休斯敦石油化工、航天工业——“临空型”的新布局方式
D. 日本九州岛南部和本州岛东北部的电子工业——“临海型”的新布局方式
38. 下列为了保护自然资源和生态环境而采取的措施中, 不可取的是]
- A. 三江平原禁垦荒地
B. 东北林区限采伐重营造
C. 内蒙古西部退耕还草
D. 南方地区禁采有色金属矿
39. 解决大城市环境问题的根本措施是]
- A. 兴建高层建筑, 扩大城市占地面积
B. 分散大城市职能, 建设卫星城市
C. 治理工业“三废”, 建立卫生防护带
D. 健全道路体系, 解决交通拥挤问题
40. 以下属于人类从周围环境输入物质和能量的过程中产生的环境问题是]
- A. 舟山渔场资源的减少
B. 重庆的酸雨现象
C. 兰州市的大气污染
D. 太湖水质逐渐变差

41. 阅读材料, 回答问题。(11 分)

材料

今日和议既成, 中外贸易有无交通, 购买外洋器物, 尤属名正言顺, 购成之后, 访募覃思之士, 智巧之匠, 始而演习, 继而造, 不过一二年, 火轮船必为中外官民通行之物, 可以剿发捻, 可以勤远略。

——摘自《曾文正公全集》(1861 年)

(1) 曾国藩文中讲的“和议”指的是什么? 由曾国藩等人发起的这场运动叫什么? 从文中分析这场运动的目的。

(2) 简要列出这场运动的其他几个代表人物、时间及主要内容。

(3) 怎样评价这场运动?

42. 阅读材料, 回答问题。(12 分)

材料

1929 年 10 月 29 日, (纽约) 股市出现了灾难性的风暴, 一天之内抛售了 1 600 多万股。到 11 月, 纽约股市的各种股票损失达 260 多亿美元。1933 年初, 美国银行已有半数倒闭, 完全失业人数达到 1 500 万至 1 700 万人。美国的经济危机很快引发了其他资本主义国家的经济危机。1930 年, 严重依赖美国资本的德国也发生经济危机, 接着, 英、日等国经济出现了严重的衰退。1932 年, 法国经济也开始萧条。

1929 年至 1938 年, 整个资本主义世界的工业生产下降了 1/3 以上, 国际贸易额减少了 2/3。

——摘自《世界现代史资料》

(1) 依据上述材料总结此次经济危机的特点(不得摘抄原文)。

(2) 根据你所掌握的知识, 回答美国是如何渡过危机的?(要答出在哪几个方面采取了哪些措施)

43. 简述 1949 年中国人民政治协商会议召开的背景及会议的主要内容, 并评述会议召开的重要意义。(12 分)

44. 读气候类型的降水量和气温分配图(图 2), 回答下列问题。(10 分)

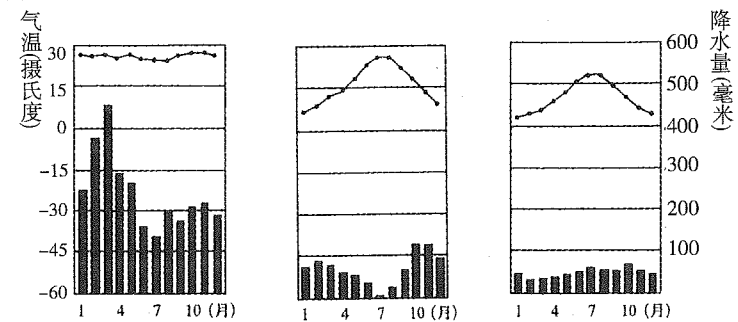


图 2

(1) 写出三图分别代表的气候类型: A _____ 气候, B _____ 气候, C _____ 气候。

(2) A 气候类型分布面积最广的是 _____ 流域, 此自然带的代表动物是 _____。

(3) 在 B 气候条件下, 植物所具有的特征是 _____。与它分布在同纬度大陆东岸的是 _____ 气候。

(4) C 气候类型的形成与终年盛行的 _____ 风密切相关, 在西欧 _____ 流对它的形成也起着促进作用, 与 C 气候类型同自然带而名称不同的气候类型是 _____ 气候。

45. 读沿 40°N 亚欧大陆的 1 月和 7 月气温变化曲线图及各地年降水量分布图(图 3), 回答下列问题。(13 分)

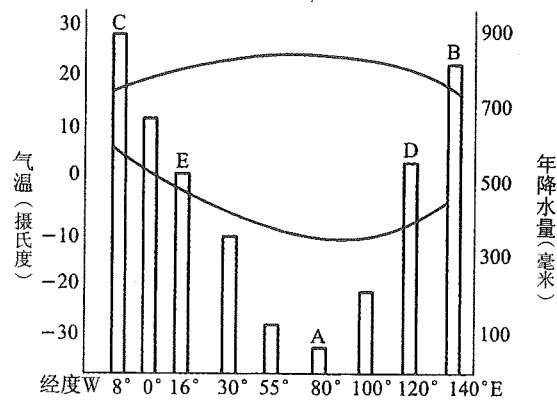


图 3

- 图中 A 地降水量比 B 地少的原因是什么?
- 图中各地气温年较差最小的是_____。原因是什么?
- C 地所在的半球是_____ (填东或西) 半球。B 地所在的国家是_____，其发展工业有利的自然条件和有利的社会经济条件是什么?

46. 读图 4, 回答下列问题。(12 分)

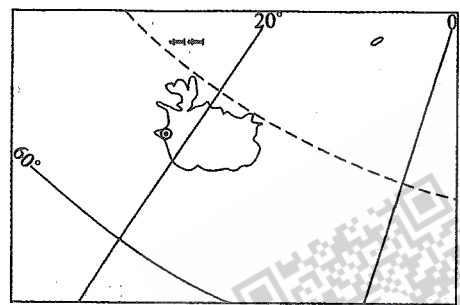


图 4

- 此岛以东是_____半球, 以西是_____半球。
- 此岛地处_____板块和_____板块的交界处, 此处的板块边界类型是_____边界。
- 此岛以西隔丹麦海峡与_____洲相望; 附近有_____洋流和_____洋流经过。
- 此岛_____资源丰富, 首都因此被称为“无烟城市”。

参考答案及解析

一、选择题

1. 【答案】A

【应试指导】本题考查我国最早的奴隶制国家政权。公元前 2070 年, 启创立了夏朝。夏朝是我国历史上第一个奴隶制国家。

2. 【答案】A

【应试指导】本题考查汉武帝的政绩。汉武帝推行了一系列实现封建大一统的措施, 具体如下: (1) 政治方面: 改革官制, 加强皇权; 大量选拔人才, 加强朝廷对地方官僚的控制; 实行“推恩令”, 削弱王国势力, 加强中央的权力; 强化完善封建法制, 维护封建秩序。(2) 经济方面: 改革币制, 推行全国法定货币; 盐铁官营; 平抑物价、征收

工商业者的营业税和财产税等。(3) 军事方面: 出兵匈奴; 进军南越, 设置南海等九郡。(4) 思想方面: “罢黜百家, 独尊儒术”。

3. 【答案】B

【应试指导】本题考查世界上最早采用全身麻醉法的医生。华佗制成的全身麻醉药剂“麻沸散”, 是世界医学史上的首创, 对中国医学事业的发展做出了杰出的贡献。

4. 【答案】D

【应试指导】本题考查提出实行两税法建议的唐朝宰相。公元 780 年, 唐朝政府接受了宰相杨炎的建议, 实行了两税法。

5. 【答案】A

【应试指导】本题考查元朝设置的管辖澎湖和台湾的机构。元政府设置了澎湖巡检司负责管辖澎湖和台湾。澎湖巡检司的设置, 加强了元政府对台湾的管辖。

6. 【答案】C

【应试指导】本题考查郑成功收复台湾的史实。明末, 荷兰殖民者侵占我国台湾。1662 年, 郑成功收复台湾, 从而使台湾回到祖国怀抱。

7. 【答案】C

【应试指导】本题考查镇南关大捷。1885 年 3 月, 冯子材率领清军和当地民众在镇南关取得关键性胜利, 完全扭转了整个中法战局, 史称镇南关大捷。

8. 【答案】A

【应试指导】本题考查戊戌变法的历史功绩。戊戌变法是一场资产阶级的改良运动, 在社会上起了思想启蒙的作用, 有利于资产阶级思想文化的传播。资产阶级维新派提出的挽救民族危亡、发展资本主义的主张, 符合当时历史发展的趋势, 具有爱国和进步的意义。

9. 【答案】C

【应试指导】本题考查中国新民主主义革命的开端。在五四运动中, 中国无产阶级第一次登上政治舞台, 在运动后期发挥了主力军的作用, 使五四运动成为中国近代史上一次彻底的反帝反封建的革命运动。由于参加运动的阶级成分、运动对中国历史发展所起的作用、运动发生时国际国内环境等众多因素的影响, 使五四运动成为中国新民主主义革命开端的标志。

10. 【答案】A

【应试指导】本题考查《文学改良刍议》的发表者。1917 年, 胡适发表《文学改良刍议》一文, 提出“文学改良”的口号。

11. 【答案】C

【应试指导】本题考查平型关大捷的相关知识。1937 年 9 月, 八路军第一一五师在平型关附近伏击日军, 取得了平型关大捷。这是抗日战争开始后中国军队取得的第一次大捷。

12. 【答案】B

【应试指导】本题考查 1960 年中国共产党提出八字方针的目的。面临着由于各种因素造成的严重的经济困难, 党中央提出了“调整、巩固、充实、提高”的八字方针, 目的是全面调整国民经济。

13. 【答案】C

【应试指导】本题考查第一次工业革命中发明的交通工具。①发明了飞梭, ②发明了水力织布机, ③制造了汽船, ④制造了蒸汽机车。

14. 【答案】A

【应试指导】本题考查新航路开辟的最根本原因。新航路开辟实际上是一场社会根本变革的外在表现, 而推动历史上社会变革的最根本动力就是生产力的发展以及所催生的新的生产关系。

15. 【答案】C

【应试指导】本题考查《共产党宣言》的发表时间。1848 年 2 月, 《共产党宣言》得到了发表。《共产党宣言》的发表, 标志着科学社会主义的诞生。

16. 【答案】B

【应试指导】本题考查签署废除农奴制法令的俄国皇帝。沙皇亚历山大二世于 1861 年 3 月签署了废除农奴制度的法令, 这成为俄国历史上的一个重要转折点。

17. 【答案】A

【应试指导】本题考查与欧洲第二战场开辟相关的史实。1943 年 11 月 28 日—12 月 1 日, 在德黑兰举行第二次世界大战中的苏、美、英政府首脑会议。会议主要讨论了军事问题, 通过了在 1944 年 5 月 1 日前在欧洲开辟第二战线的决定, 即诺曼底登陆。

18. 【答案】C

【应试指导】本题考查世界反法西斯统一战线建立的标志。1942 年初, 为了反对共同的敌人法西斯, 中、美、英、苏等 26 个国家的代表齐聚华盛顿, 共同签署了《联合国宣言》。各国保证竭尽全力, 团结一致, 彻底打败法西斯轴心国及其追随者。至此, 世界反法西斯同盟正式形成。

19. 【答案】C

【应试指导】本题考查日本向帝国主义过渡过程中的特征。日本的明治维新是一次不彻底的资产阶级革命, 保留了大量的封建残余, 从而使日本发展为富于侵略性的军事封建帝国主义国家。

20. 【答案】A

【应试指导】本题考查推动欧洲共同体成立的根本原因。随着经济的发展, 西欧国家之间的联系日益密切。20 世纪 60 年代, 法国和联邦德国等西欧国家成立了“欧洲共同体”组织, 对成员国经济的发展和国际地位的提高发挥了

- 重要作用。
- 21.【答案】C
【应试指导】本题考查太阳活动对地球的影响等知识点。太阳活动的重要标志是黑子和耀斑,太阳活动产生的高能带电粒子、电磁辐射会冲击地球大气层,扰动地球磁场,因此①②④正确,太阳活动可能诱发火山、地震,但二者的发生并非都与太阳活动有关。
- 22.【答案】A
【应试指导】本题考查板块构造学说等知识点。马来群岛南侧处于印度洋板块与亚欧板块的消亡边界。
- 23.【答案】D
【应试指导】本题考查我国三级阶梯的划分和内外力作用等知识点。A、C两项均由外力作用形成,B项位于我国第二级阶梯。
- 24.【答案】A
【应试指导】本题考查世界主要气候类型的特征等知识点。图中①曲线全年各月气温均接近30℃,符合亚马孙平原热带雨林气候的特征。②曲线气温年较差小,最低气温不低于0℃,符合亚热带气候或温带海洋性气候的特征,而莫斯科属温带大陆性气候。③、④两曲线的气温值都很低,全年全部或大部分时间在0℃以下,应该符合南、北两半球极地地区的气候特征,与悉尼、纽约的气温变化不符合。
- 25.【答案】C
【应试指导】本题考查世界洋流的分布规律等知识点。根据题中“西半球”这个条件可排除日本暖流、莫桑比克暖流;加那利寒流位于大陆西岸。
- 26.【答案】C
【应试指导】本题考查七大洲的位置等知识点。赤道没有穿过欧洲和北美洲,北极圈没有穿过南美洲。
- 27.【答案】A
【应试指导】本题考查哈萨克斯坦的概况等知识点。世界最大的内陆国是哈萨克斯坦,是我国的西部邻国,从中国连云港到欧洲荷兰鹿特丹的铁路(又称第二亚欧大陆桥)经过该国内。
- 28.【答案】C
【应试指导】本题考查澳大利亚发达的农牧业等知识点。澳大利亚畜牧业以养羊为主,羊毛的产量和出口量均居世界首位。
- 29.【答案】C
【应试指导】本题考查巴西的概况等知识点。菲律宾的蕉麻产量居世界第一位;现在巴西工业在国民经济中的比重已超过农矿业;巴西东南部属于亚热带季风气候;圣保罗是巴西最大的工业中心,也是南美洲最大的城市。
- 30.【答案】B
【应试指导】本题考查我国省级行政区的位置等知识点。北回归线从东向西依次穿过我国的台湾、广东、广西、云南四个省级行政区。
- 31.【答案】D
【应试指导】本题考查我国的人口等知识点。由于我国人口基数大,在实行计划生育的情况下,每年净增人口仍很多。
- 32.【答案】D
【应试指导】本题考查影响工业布局的因素等知识点。甘蔗制糖应接近原料地;电子工业应接近高等院校;炼铝工业是有色金属冶炼,应接近能源基地;家具不易远距离运输,应接近市场。
- 33.【答案】A
【应试指导】本题考查自然条件对农业生产的影响等知识点。由于我国北方地区纬度相对较高,所以热量欠缺。采取“温室大棚”的方式可有效减少热量的散失,达到反季节种菜的效果。
- 34.【答案】D
【应试指导】本题考查我国四大地理分区的位置等知识点。甘肃省正好位于四大地理分区的交界处。
- 35.【答案】A
【应试指导】本题考查我国的能源消费构成等知识点。目前,我国的能源消费构成以煤炭为主,其次是石油。
- 36.【答案】C
【应试指导】本题考查我国青藏地区的概况等知识点。青藏高原太阳辐射强是因为海拔高;世界上面积最大的高原是巴西高原;恒河的发源地位于喜马拉雅山南部,不在中国境内。
- 37.【答案】B
【应试指导】本题考查世界工业布局的变化等知识点。英国阿伯丁的石油工业和美国休斯敦石油化工、航天工业是在新燃料基础上形成的新的工业中心;日本九州岛南部和本州岛东北部的电子工业属于“临空型”的新布局方式。
- 38.【答案】D
【应试指导】本题考查自然资源 and 生态环境的保护等知识点。A、B、C项做法可有效保护湿地、森林和草场,以达到保护资源与环境的目,而禁止采矿的做法太绝对,也不符合可持续发展。
- 39.【答案】B
【应试指导】本题考查解决城市化过程中产生问题的途径等知识点。大城市环境问题产生的根源是人口和工

- 业的高度集中,导致城市生态系统失去平衡,环境恶化。因此,大城市今后的发展,必须控制人口和用地规模,分散大城市职能,建设卫星城。
- 40.【答案】A
【应试指导】本题考查人类社会与环境的关系等知识点。在人与环境的关系中,人类的生存活动和生产活动,需要从环境中输入物质和能量。但人类的索取是有条件和代价的,如果超过了环境的更新能力和再生能力,就可能造成生态平衡失调,环境恶化。A选项符合题意要求,B、C、D选项属于人类向环境输出物质和能量问题。
- 二、非选择题
41. (1)指第二次鸦片战争结束后签订的《天津条约》和《北京条约》。洋务运动。镇压太平天国运动,维护清朝反动统治。
(2)中央:奕訢。地方:李鸿章、张之洞、左宗棠。从19世纪60年代到90年代。前期以举办军事工业为主,有曾国藩的安庆内军械所,李鸿章的江南制造总局等。后期在举办军事工业的同时,举办了一批民用工业,有李鸿章的上海轮船招商局,张之洞的汉阳铁厂等。建立海军,到1888年,李鸿章将北洋海军扩充为北洋舰队。举办新式学校,派遣留学生。
(3)洋务运动没有使中国走上富强的道路。但是,它引进了西方资本主义国家的一些近代科学生产技术,培养了一批科技人员和技术工人,在客观上刺激了中国资本主义的发展,对外国经济的扩张,也起到了一些抵制作用。同时,它也是中国近代化的开端。
42. (1)特点:范围广,席卷了整个资本主义世界;涉及各个行业,生产危机和金融信用危机同时发生。时间长,从1929年到1933年。破坏性强,经济危机引发政治危机。
(2)1932年,富兰克林·罗斯福当选为美国总统。第二年,他宣布实施“新政”,采用国家干预经济的办法来渡过经济危机。
①整顿金融:下令全国银行休业四天,情况良好的可重新开业;情况不佳的被勒令清盘。成立联邦存款保险公司以保障存款人的存款。
②调整农业。政府让农民缩减耕地和屠宰大批牲畜,由政府付款补偿。
③调整工业。根据国会通过的工业复兴法案,各行业的工业企业制订全行业遵守的公平经营规章。这个法案保障工人有权组织起来,通过自选代表同雇主进行谈判,签订集体合同,确定工人的最高工作时数和最低工资水平。根据这个法案,成立专门机构,进行公共建设工程,提供人民就业机会。
43. (1)背景:政治上:1949年3月召开的中共七届二中全会,为夺取全国革命的胜利和建设新中国在政治思想上做了准备,解决了由新民主主义革命转变为社会主义革命的重大问题。军事上:1949年4月,人民解放军取得渡江作战的胜利,攻占了南京,致使国民党政权覆灭。1949年9月,中国人民政治协商会议在北平召开。
(2)主要内容:通过了《共同纲领》,选举了国家领导人,通过了国旗、国歌、国都。
(3)意义:中国人民政治协商会议具有代行全国人民代表大会职权的作用。会议的召开,表明人民民主统一战线的巩固和扩大。《共同纲领》起了临时宪法的作用。
44. (1)热带雨林 地中海 温带海洋性
(2)亚马孙河 猩猩、河马
(3)常绿、硬叶、叶面有蜡质、根系深 亚热带季风
(4)西 北大西洋暖 温带季风
【应试指导】解答这类试题必须认真分析各月的气温曲线图和降水柱状图,根据1月和7月气温确定冬、夏季节和所在的热量带,再依据降水总量和季节分配确定气候类型,最后联想这些气候类型的分布和相应的自然带做出回答。
45. (1)深居内陆,受海洋影响小。
(2)C C位于大陆西岸,受海洋影响大。
(3)东 日本 有利的自然条件:多优良港湾。有利的社会经济条件:科技发达,劳动力资源丰富。
【应试指导】根据题设,此题考查亚欧大陆的气温、降水等相关知识,结合图中所给的气温、降水的时空分布,分析解答相关问题。(1)从图中可以看出A地位于大陆的内部,距海远,海洋上的湿润气流难以到达而使当地降水量少。(2)根据1月和7月气温变化曲线,可计算出各地的气温年较差,得出C地的气温年较差最小,其影响因素是C地位于大陆西岸,在40°N地区受盛行西风的影响,由于海洋的调节作用,气温年较差小。(3)考查东、西半球的划分,20°W以东至160°E为东半球,C地在此范围内。据经纬度可判断B地属于日本,日本是亚欧大陆东岸的岛国,发展经济的优势是多优良海港,技术先进,人口密集,劳动力丰富。
46. (1)东 西
(2)亚欧 美洲 生长
(3)北美 东格陵兰寒流 北大西洋暖流
(4)地热
【应试指导】本题首先考查通过经纬网和岛屿形状定位的能力,并在此基础上考查世界地理中的一些基础知识,如半球划分、板块构造学说、洋流分布等。

全国各类成人高等学校招生考试高起点历史地理

全真模拟(四)

本试卷分第I卷(选择题)和第II卷(非选择题)两部分。满分150分。考试时间120分钟。

Table with 4 columns: 题号, 一, 二, 总分, 统分人签字. Row 1: 题号, 一, 二, 总分, 统分人签字. Row 2: 分数, , , ,

第I卷(选择题,共80分)

Table with 2 columns: 得分, 评卷人. Row 1: 得分, 评卷人. Row 2: ,

一、选择题:1~40题,每小题2分,共80分。在每小题给出的四个选项中,选出一项符合题目要求的。

- 1. 战国时期主张节约、反对厚葬的思想家是...
2. 西域都护始设于...
3. 南北朝时期,江南地区得到开发的主要条件是...
4. 以下关于《资治通鉴》的表述,正确的是...
5. 被誉为“中国17世纪的工艺百科全书”的是...
6. 在世界航海史上,最早的大规模远洋航行是...
7. 规定增开天津为通商口岸的条约是...
8. 在帝国主义瓜分中国的狂潮中,把长江流域作为势力范围的国家是...
9. 提出“有田同耕,有饭同食,有衣同穿,有钱同使,无处不均匀,无人不饱暖”理想社会的是...
10. 中国无产阶级开始登上历史舞台是在...
11. 下列事件发生在“文化大革命”中,其先后顺序是...
12. 中国共产党提出社会主义初级阶段理论并制定其基本路线是在...
13. 标志着英国资产阶级革命开始的事件是...

- 14. 1929—1933年资本主义世界经济危机首先发生于...
15. 俄国1861年改革有利于资本主义的发展,但列宁说它也是“对农民进行残酷的掠夺”,这主要是指...
16. 巴黎和会上,英国对德国的态度是...
17. 1939年9月,法西斯德国突然袭击下列哪个国家,挑起了第二次世界大战...
18. 建立联合国的决定是在下列哪个会议上做出的...
19. 北大西洋公约组织成立的时间是...
20. 欧元是下列哪个地区性联合体统一使用的货币...
21. 太阳系的行星中,距离太阳不足1.5亿千米的行星是...
22. 图1中,P点位置同时符合:①东半球、②北半球、③低纬度、④我国境内四个条件的是...

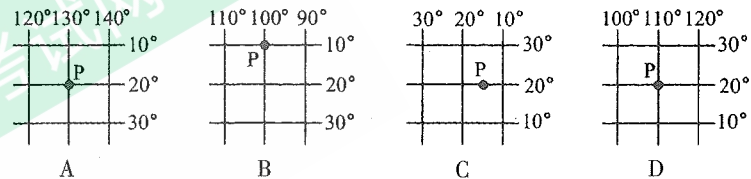


图1

- 23. 下列关于我国疆域的叙述正确的是...
24. 图2中,反映我国拉萨气候特点的是...

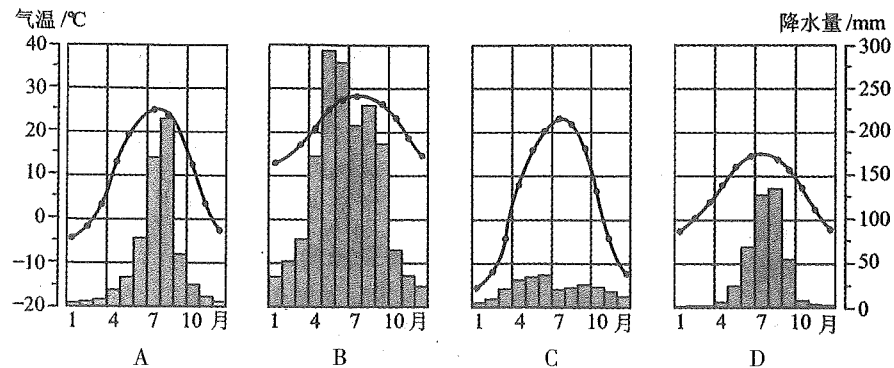


图2

- 25. 径流的季节变化和年际变化都很大的河流是...
26. 世界划分为七大洲、四大洋,其中跨经度最广的是...

27. 下列城市中,有印度“硅谷”之称的是
- A. 班加罗尔 B. 孟买 C. 加尔各答 D. 新德里
28. 关于非洲自然资源的叙述,正确的是
- A. 非洲是咖啡、可可、枣椰、油棕的故乡
B. 埃及的石油产量居非洲第一位
C. 最大的黄金生产国是南非
D. 赞比西河多急流瀑布,是世界上水能资源最丰富的河流

图3是南美洲略图,若欲由哥伦比亚首都圣菲波哥大搭乘飞机飞往巴西首都巴西利亚。据此回答29~30题。

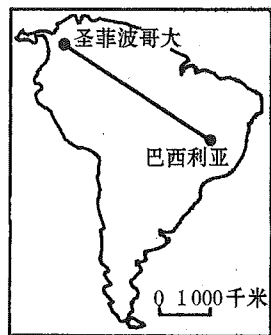


图3

29. 由圣菲波哥大飞往巴西利亚,其飞行方向应为
- A. 东北 B. 东南 C. 西北 D. 西南
30. 飞机沿途将飞越
- ①巴西高原,②亚马孙平原,③安第斯山脉,其飞越顺序为
A. ①②③ B. ②①③ C. ③②① D. ②③①
31. 下列叙述正确的是
- A. 我国江淮地区的伏旱和北方的春旱都受副热带高压带控制
B. 影响我国东南沿海的台风主要发生在春末夏初
C. 冬季影响我国的寒潮,是冷锋南下形成的灾害性天气
D. 夏季江淮地区的梅雨,是华南准静止锋停留此地造成的
32. 长江上中游和黄河上中游河段的共同特征是
- A. 流量小 B. 含沙量大 C. 有结冰期 D. 水力资源丰富
33. 我国最大的综合性工业基地是
- A. 沪宁杭工业基地 B. 京津唐工业基地
C. 辽中南重工业基地 D. 珠江三角洲工业基地
34. 占香港特别行政区进出口贸易首位的贸易地区是
- A. 西欧 B. 北美 C. 日本 D. 祖国内地
35. 下列不属于文化旅游景观的是
- A. 拉萨布达拉宫 B. 万里长城 C. 黄山 D. 洛阳龙门石窟
36. 有关黄河的利用和治理的叙述,正确的是
- A. 下游河段梯级开发 B. 中游河段兴修防洪工程
C. 治黄的关键在于治沙 D. 上游注意水土保持
37. 在目前商品经济条件下,农业生产的类型和产量最终取决于
- A. 国家政策引导 B. 市场的需求
C. 城市和工业发展的需要 D. 科技水平的高低
38. 以下河流与其流经的国家配对正确的是
- A. 泰晤士河——英国 B. 莱茵河——西班牙
C. 伏尔加河——德国 D. 多瑙河——法国
39. 从我国土地利用的原则考虑,下列哪些地区应该退耕还牧
- A. 鄱阳湖平原 B. 鄂尔多斯高原 C. 河西走廊 D. 成都平原
40. 下列与森林减少无关的环境问题是
- A. 土地荒漠化 B. 水土流失 C. 生物多样性锐减 D. 臭氧层破坏

第II卷(非选择题,共70分)

得分	评卷人

二、非选择题:41~46小题,共70分。

41. 阅读材料,回答问题。(11分)

材料

“世祖皇帝建元中统以来,始末取故老诸儒之言,考求前代之典,立朝廷而建官府,辅相者曰‘中书省’,本兵者曰‘枢密院’,主弹纠者曰‘御史台’……”

“夫外之郡县,其朝廷远者,则镇之以行中书省。……若有边徼之事者,则置宣慰司以达之。……举刺之事,则有御史台领监察御史、肃政廉访司以治之。”

- (1)此文记载的是哪一朝的制度?
(2)据材料说明,建立这一制度的主要依据是什么?
(3)引文中的“中书省”和“行中书省”是什么机构?各管辖什么地方?
(4)试举一例说明引文中的制度对后世的影响。

42. 阅读材料,回答问题。(12分)

材料一

我们对一个在强大邻邦压境下的小国不论抱有多大同情:但总不能仅仅为了它不顾一切地使整个大不列颠帝国卷入一场战争。

——张伯伦 1938年9月27日广播讲话

材料二

过去两年的经验已经无疑地证明,任何国家都不能姑息纳粹,任何人都不能靠抚摸来把老虎驯服成小猫。不能姑息残忍的行为……我们知道,一个国家只能以彻底投降为代价才能同纳粹有和平。

——1940年12月29日罗斯福的“炉边谈话”

- (1)材料一中的“邻邦”和“小国”各指谁?张伯伦所说牺牲了“小国”的目的是什么?他的“帝国”是否达到了目的?
(2)材料二中所说“姑息纳粹”“彻底投降”的最典型的史实各是什么?根据这些史实对英法对德国的政策进行简单评论。

43. 简述中共十一届三中全会召开的背景、会议的主要内容及其历史意义。(12分)

44. 读图4,回答下列问题。(10分)

(1)写出国家名称:

A _____; B _____; C _____;
D _____。

(2)B国境内的洲界线为 _____,其在世界交通中的重要性是 _____,

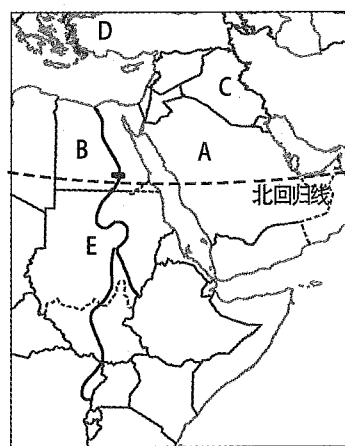



图4

密封线内不要答题

局限性是_____。

(3) B 国家的人口和城市绝大多数集中在_____；A 国最重要的矿产资源是_____。

(4) 图 5 为 3 处旅游胜地，属于 B 国家的是_____（选择填空），今天景观乙破坏严重的原因是_____。



甲

乙

丙

图 5

(5) E 河上游流经_____气候区，该气候一年分两季的原因是_____。

45. 读图 6，分析下列问题。（13 分）

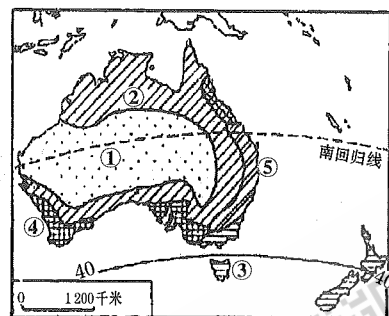


图 6

(1) 气候类型①_____气候，其分布抵西海岸的原因除了受大气环流的影响外，还由于西岸受_____（洋流）的影响。

(2) ②_____气候，③_____气候，④_____气候，⑤_____气候。

(3) 气候④与⑤纬度位置相似，皆位于海边，而气候类型不同，其原因是东西两岸的大气环流形式不同，东岸受_____风影响，而西岸夏季受_____控制，冬季受_____风影响。

(4) 澳大利亚矿产资源丰富，被称为_____国家，主要出口矿产有_____和_____。

46. 图 7 为 1992 年我国近海主要海域污染状况示意图，读图回答下列问题。（12 分）

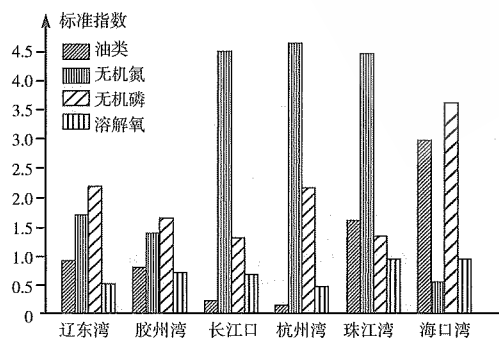


图 7

(1) 由该图可知我国近海最主要的污染物是_____。

(2) 造成我国近海石油污染的主要原因是_____。

(3) 图中无机磷含量最高的是_____，海中无机磷主要来源于_____。

(4) 图中无机氮含量最高的是_____，这些无机氮主要来源于_____。

(5) 海洋中氮、磷含量过高会造成的不利影响是_____。

参考答案及解析

一、选择题

1. 【答案】D

【应试指导】本题考查战国时期墨子的思想。墨子是战国时期墨家的代表人物，他主张“兼爱”“非攻”“节用”“节葬”“尚贤”。

2. 【答案】A

【应试指导】本题考查西域都护的始设时期。公元前 60 年，西汉政府设西域都护，作为管辖西域的最高行政机构。这是西域正式归属中央政权的开始。

3. 【答案】A

【应试指导】本题考查南北朝时期，江南地区得到开发的主要条件。西晋末年，北方农民大批向南迁移，带去了较先进的生产工具和生产技术，这为南北朝时期江南经济的发展创造了主要条件。

4. 【答案】D

【应试指导】本题考查《资治通鉴》的相关知识。《资治通鉴》是北宋史学家司马光主持编写的一部编年体通史巨著，它按年、月、日顺序，记载了从战国到五代 1 300 多年的历史，共有将近 300 卷。

5. 【答案】C

【应试指导】本题考查被誉为“中国 17 世纪的工艺百科全书”的巨著。宋应星是明朝杰出的科学家，他写的《天工开物》一书，总结了明朝的农业、手工业生产技术，被国外称为“中国 17 世纪的工艺百科全书”。

6. 【答案】C

【应试指导】本题考查世界上最早大规模的远洋航行。郑和下西洋是在 15 世纪初，比西方最早的哥伦布远航（15 世纪 90 年代）还要早半个多世纪。

7. 【答案】D

【应试指导】本题考查《北京条约》的主要内容。《北京条约》的内容有：(1)清政府承认《天津条约》继续有效；(2)增开天津为通商口岸；(3)割九龙司地方一区给英国；(4)对英法赔款各增至白银 800 万两。

8. 【答案】A

【应试指导】本题考查在瓜分中国的狂潮中，把长江流域划为势力范围的国家。英国是最早侵略我国并强迫我国签订不平等条约的国家，在瓜分中国狂潮的时候，它霸占了我国最富庶的长江流域。

9. 【答案】B

【应试指导】本题考查《天朝田亩制度》提出的理想社会。太平天国定都天京后，颁布了《天朝田亩制度》。它的目的是要建立“有田同耕，有饭同食，有衣同穿，有钱同使，无处不均匀，无处不饱暖”的理想社会。

10. 【答案】B

【应试指导】本题考查中国无产阶级开始登上历史舞台的标志。1919 年的五四运动是中国近代史上一次彻底的反帝反封建的革命运动，是中国无产阶级开始登上历史舞台的标志。

11. 【答案】A

【应试指导】本题考查“文化大革命”的相关知识。④和①分别发生于 1967 年的 1 月和 2 月，③发生于 1971 年，②发生于 1976 年。

12. 【答案】C

【应试指导】本题考查中共提出社会主义初级阶段理论并制定其基本路线的会议。1987 年 10 月 25 日至 11 月 1 日，中国共产党第十三次全国代表大会在北京举行。大会比较系统地阐述了关于社会主义初级阶段的理论，完整地概括了中国共产党在社会主义初级阶段“一个中心、两个基本点”的基本路线，制定了下一步经济体制改革和政治体制改革的基本任务和奋斗目标。

13. 【答案】B

【应试指导】本题考查英国资产阶级革命开始的标志。1640 年，英国国王查理一世召开了国会，这次议会的召开，揭开了英国资产阶级革命的序幕。

14. 【答案】D

【应试指导】本题考查 1929—1933 年的资本主义世界经济危机的首发国家。当时美国经济最发达，资本主义经济发展规律的矛盾也最突出，所以危机首先从美国开始。

15. 【答案】C

【应试指导】本题考查对俄国 1861 年改革的客观认识。1861 年，沙皇签署了废除农奴制法令，农奴获得人身自由。俄国农民获得了解放，但是付出了沉重的代价，即农民须用高价赎买份地。

16. 【答案】A

【应试指导】本题考查巴黎和会上英国对德国的态度。在巴黎和会上，英国根据它的“欧洲均势”的传统政策，不愿法国独霸欧洲，反对过分削弱德国。

17. 【答案】C
【应试指导】本题考查第二次世界大战爆发的导火线。1939年9月1日,德国对波兰发动了突然袭击,英法对德宣战,第二次世界大战全面爆发。
18. 【答案】B
【应试指导】本题考查做出建立联合国决定的会议。1945年2月,苏、美、英三国首脑在雅尔塔举行会议。会议的主要内容有:彻底消灭德国军国主义和法西斯主义,惩办战犯,实现战后德国民主化,准备在战后成立联合国。
19. 【答案】B
【应试指导】本题考查北大西洋公约组织成立的时间。1949年4月,以美国为首的西方12国代表,在华盛顿签订了《北大西洋公约》,成立了北大西洋公约组织,简称“北约”。
20. 【答案】D
【应试指导】本题考查欧元的使用。欧盟统一的货币——欧元,于1999年1月成功启动,标志着欧洲经济与货币联盟正式建成。
21. 【答案】C
【应试指导】本题考查太阳系及其成员等知识点。在太阳系的八大行星中,地球距离太阳的平均距离约为1.5亿千米。故距离太阳不足1.5亿千米的行星是地球轨道以内的水星和金星。
22. 【答案】D
【应试指导】本题考查东西半球的划分、纬度带的划分和我国疆域的范围等知识点。解题时应注意以下几点:东、西半球划分是以 $20^{\circ}W$ 和 $160^{\circ}E$ 为界线的;高、中、低度划分范围。解决过程要将四个条件逐一对照检查,防止漏掉所要求的条件而选择错误的选项。
23. 【答案】D
【应试指导】本题考查我国的疆域等知识点。云南不与泰国相邻;甘肃不与俄罗斯相邻。虽然东西跨的经度大于南北跨的纬度,但1个纬度代表的距离约111千米,而每一个经度所表示的距离由赤道向两极递减,我国南北距离约5500千米,东西距离约5200千米。吉林不与俄罗斯相邻。
24. 【答案】D
【应试指导】本题考查我国冬夏气温的分布特点和年降水量的分布特点等知识点。根据图中水热组合状况,可以确定A项所示为温带季风气候的特点,B项所示为亚热带季风气候的特点,C项所示为分布于西北内陆的干旱气候的特点,D项所示为分布于青藏高原的高原气候的特点。
25. 【答案】C
【应试指导】本题考查河流的径流变化等知识点。河流径流的变化与河水的补给有密切关系,季风区的降水主要来自夏季风,而夏季风的强弱变化很大,因此,这些地区的河流径流量变化也很大。
26. 【答案】B
【应试指导】本题考查七大洲、四大洋的地理位置等知识点。由于所有的经线都相交于极点,位于极地附近的大洲和大洋所跨经度最广。
27. 【答案】A
【应试指导】本题考查印度新兴产业的发展等知识点。班加罗尔是印度主要的信息技术中心,有印度“硅谷”之称。
28. 【答案】C
【应试指导】本题考查非洲丰富的自然资源等知识点。非洲自然资源丰富,被称为“富饶的大陆”。解答该题采用排除法。可可的故乡在南美洲;尼日利亚的石油产量居非洲第一位;刚果河是世界上水能资源最丰富的河流;南非的黄金产量居世界第一位。
29. 【答案】B
【应试指导】本题考查地图上地理方位的判读等知识点。题中地图没有指向标和经纬网,应根据“上北下南;左西右东”的原则,可判断出巴西利亚在圣菲波哥大的东南方向。
30. 【答案】C
【应试指导】本题考查南美洲主要山脉、平原和高原的分布等知识点。哥伦比亚的首都圣菲波哥大位于安第斯山区,巴西的首都巴西利亚位于巴西高原,所以C项正确。
31. 【答案】C
【应试指导】本题考查我国的气候等知识点。北方的春旱是由太阳高度角增大,气温升高,蒸发旺盛,夏季风又未到达所导致的;台风就是热带气旋,影响我国的台风主要出现在夏秋季节;梅雨是江淮地区准静止锋造成的,而不是华南准静止锋。
32. 【答案】D
【应试指导】本题考查我国长江上中游和黄河上中游河段的水文特征等知识点。长江和黄河的水文特征有很大的差异,但由于共同发源于青藏高原,流经我国地势的三个阶梯,在上中游的某些地段,落差大,水流急,产生巨大的水能资源。
33. 【答案】A
【应试指导】本题考查我国四大工业基地等知识点。我国有四个典型的工业基地,其中沪宁杭工业基地是最大的综合性工业基地,所以A项是正确的。
34. 【答案】D
【应试指导】本题考查香港的贸易等知识点。目前,香港与世界上160多个国家和地区有外贸关系,其中香港和祖国内地的贸易占香港进出口贸易的首位。
35. 【答案】C
【应试指导】本题考查我国主要的旅游资源等知识点。我国的旅游资源大致可分为自然风光和人文景观两大类。拉萨布达拉宫、万里长城、洛阳龙门石窟属于人文景观,黄山属于自然风光。
36. 【答案】C
【应试指导】本题考查黄河的治理和综合利用等知识点。黄河下游河段应加固大堤,中游河段应进行水土保持,上游河段应梯级开发。

37. 【答案】B
【应试指导】本题考查社会经济条件对农业生产的影响等知识点。在目前市场经济条件下,市场决定了农业生产的类型和产量。例如,城市郊区往往形成蔬菜、肉、蛋、奶、花卉等农业生产基地。
38. 【答案】A
【应试指导】本题考查欧洲的主要河流等知识点。莱茵河主要流经德国,最终注入北海,没有流经西班牙;伏尔加河被俄罗斯称为“母亲河”,最终注入里海,没有流经德国;多瑙河主要流经德国等国家,最终注入黑海,没有流经法国。
39. 【答案】B
【应试指导】本题考查我国西北地区荒漠化的防治等知识点。鄂尔多斯高原位于西北干旱半干旱地区,受荒漠化影响严重,故该地区应该退耕还牧,保护好生态环境。
40. 【答案】D
【应试指导】本题考查当今世界主要的环境问题等知识点。森林具有保持水土、保护生物多样性、防风固沙、涵养水源等多种环境功能,森林减少会导致土地荒漠化、水土流失、生物多样性减少等环境问题;臭氧层破坏是人类排放的氟氯烃类化合物所致,它是破坏臭氧层的主要物质,与森林的减少没有关系。
- 二、非选择题
41. (1)元朝。
(2)“取故老诸儒之言,考求前代之典”。
(3)元朝的中书省是全国最高行政机构,同时管理大都及邻近地区。行中书省简称行省,是省一级的最高行政机构,由中央委派官吏管理。
(4)元代以后地方行政区划沿用了“省”的建制。
42. (1)“邻邦”是指德国,“小国”是指捷克斯洛伐克;牺牲“小国”以使英国避免战争,但并没有达到目的,英国最终卷入战争。
(2)1939年德国吞并整个捷克斯洛伐克和1940年法国战败投降成立傀儡政权。英法对德政策总想使自己远离战火,但最终害人害己;在侵略势力面前,只有团结抵抗才能制止侵略。
43. (1)背景:粉碎江青反革命集团后,党中央恢复了邓小平的职务。国内开始出现安定团结的政治局面,国民经济得到初步恢复。关于真理标准问题的讨论,为十一届三中全会的召开奠定了思想基础。
(2)主要内容:
①全会确定了解放思想、开动脑筋、实事求是、团结一致向前看的指导方针;高度评价了真理标准问题的讨论。
②果断地停止“以阶级斗争为纲”的错误方针,决定把党和国家的工作重心转移到经济建设上来;全会还做出实行改革开放的伟大决策。
③决定拨乱反正,并审查和解决党内一批重大冤假错案,以及一些重要领导人的功过是非问题。
(3)意义:十一届三中全会是新中国成立以来党的历史上具有深远意义的伟大转折。它标志着中国历史进入社会主义现代化建设新时期。新时期的基本路线的思想也是在这次会议上开始形成的。
44. (1)沙特阿拉伯 埃及 伊拉克 土耳其
(2)苏伊士运河 沟通红海和地中海,大大缩短了从欧洲、北美洲到印度洋、太平洋西岸各国的航程 运河水深度有限,25万吨以上大型货轮难以通行,仍需绕道好望角
(3)尼罗河沿岸及河口三角洲 石油
(4)乙 地处热带沙漠,昼夜温差大、风力强,风化和侵蚀作用强烈
(5)热带草原 由信风带和赤道低气压带交替控制,形成旱、雨两季
【应试指导】本题考查西亚、北非地区的主要国家,埃及的基本国情、苏伊士运河的重要意义及北非自然环境的主要特征等知识点。根据海陆轮廓可辨认出图示区域在亚、非之间,西亚、北非号称“两洋、三洲、五海”之地,是世界交通要冲,标明的几个国家都是本区的大国,其国土轮廓、位置应熟记。本区作为洲界线的水上要道主要有土耳其海峡和苏伊士运河,其中以苏伊士运河的意义更为重大,金字塔和狮身人面像的破坏主要是由当地多风沙的环境条件造成的。E河为尼罗河,是世界第一长河,其源头位于非洲中部、东非高原上的维多利亚湖,属于热带草原气候类型,这种气候的成因应为气压带、风带的季节移动。
45. (1)热带沙漠 西澳大利亚寒流
(2)热带草原 温带海洋性 地中海 亚热带季风气候
(3)季 副热带高压带 西
(4)坐在矿车里的 煤 铁
【应试指导】本题是对澳大利亚地理的综合考查。澳大利亚的气候是在纬度、大气环流、地形和洋流等因素的共同影响下形成的,气候类型多样。(1)问中,气候类型①分布到西海岸的主要原因是除了受大气环流的影响,还受西澳大利亚寒流的影响,寒流对流经地区的气候有降温减湿的作用。(3)问中,④和⑤都属于亚热带气候,⑤位于大陆东岸,西部是大分水岭,夏季这里盛行经过东澳大利亚暖流上空的偏东风,多地形雨;冬季,由于副热带高压带北移,这里多偏西风,有较多锋面雨。(4)问中,澳大利亚是世界著名的矿产品出口国,矿产品出口值在国家收入中占有较大比重,因此被称为“坐在矿车里的国家”。煤的产量居南半球各国首位,铁的储量和产量居世界前列。
46. (1)无机氮
(2)工业污水排放、海运事故溢油
(3)海口湾 人们使用的各种洗涤剂、工业含磷污水和化肥
(4)杭州湾 农业化肥和工业污水
(5)引起浮游生物大量繁殖,随着这些浮游生物的大量死亡,水中氧气被大量消耗,导致鱼类窒息死亡
【应试指导】由于海洋是地球上最大的洼地,来自陆地的工业废水、生活污水和农田排水,最终都汇集到海洋;还有海上的油井和船舶排放的废水以及泄漏的石油;大气污染物通过气流运行到海洋上空随雨水降落等,都会造成海洋污染,特别是靠近工业发达的水域,水污染最为严重。海水中无机氮含量偏高的原因:一是来自工业排放的污水,二是来自农业施用化肥后产生的径流。海水中无机磷含量偏高的原因,主要是人们使用含磷较高的洗涤剂、工业排放含磷污水、农业施用化肥和农药等。

全国各类成人高等学校招生考试高起点历史地理

全真模拟(五)

本试卷分第I卷(选择题)和第II卷(非选择题)两部分。满分150分。考试时间120分钟。

Table with 4 columns: 题号, 一, 二, 总分, 统分人签字. Row 1: 题号, 一, 二, 总分, 统分人签字. Row 2: 分数, , , ,

第I卷(选择题,共80分)

Table with 2 columns: 得分, 评卷人. Row 1: 得分, 评卷人. Row 2: ,

一、选择题:1~40题,每小题2分,共80分。在每小题给出的四个选项中,选出一项符合题目要求的。

- 1. 北朝成书的农学著作《齐民要术》的作者是 A. 祖冲之 B. 贾思勰 C. 范缜 D. 沈括
2. 下列人物中,受汉武帝派遣出使西域的是 A. 司马迁 B. 张骞 C. 董仲舒 D. 班超
3. 唐代租庸调制中的“庸”指的是 A. 田租 B. 户税 C. 徭役 D. 以绢布代役
4. 世界上最早的纸币“交子”出现于 A. 北宋前期 B. 北宋中期 C. 南宋前期 D. 南宋末年
5. 明末清初时期,认为君主专制是“天下之大害”,其思想和主张对后来的资产阶级民主革命产生过一定影响的思想家是 A. 黄宗羲 B. 顾炎武 C. 王夫之 D. 曹雪芹
6. 清代军机处的设置是在下列哪个皇帝在位时期 A. 康熙帝 B. 雍正帝 C. 乾隆帝 D. 顺治帝
7. 沙俄强占我国东北60多万平方公里土地的条约是 A. 《南京条约》 B. 《北京条约》 C. 《天津条约》 D. 《瑷珲条约》
8. 揭开戊戌变法的序幕的事件是 A. 公车上书 B. 义和团运动 C. 提出“扶清灭洋”口号 D. 赵三多冠县起义
9. 孙中山三民主义思想中“民权主义”是指 A. 驱除鞑虏 B. 恢复中华 C. 创立民国 D. 平均地权
10. 1931年日本帝国主义为了摆脱经济危机的困扰,制造了 A. “九一八”事变 B. 济南惨案 C. 皇姑屯事件 D. 华北事变
11. 标志着国共两党革命统一战线正式建立的是 A. 中共一大 B. 北伐战争 C. 中共三大 D. 国民党一大
12. 宣告“文化大革命”结束的历史事件是 A. 四五运动 B. “九一三”事件 C. 粉碎“四人帮” D. 二月抗争
13. 经过激烈争夺,到18世纪中期成为世界上最大的殖民帝国的是 A. 英国 B. 法国 C. 美国 D. 西班牙
14. 下列各项,属于法国《人权宣言》内容的有 ①人生来是自由的 ②法律面前人人平等 ③国王无权废除法律 ④私有财产神圣不可侵犯 A. ①②③ B. ②③④ C. ①③④ D. ①②④
15. 能够比较准确概括第二次世界大战后世界形势变化特点的是 A. 美国军事经济实力独占鳌头 B. 苏联成为唯一能与美国的抗衡者 C. 欧洲在战争中受到严重削弱 D. 两极格局的形成

- 16. 沙皇彼得一世进行改革的目的是 ①改善农奴待遇 ②发展资本主义 ③向外扩张 ④成为军事强国 A. ①② B. ②③ C. ③④ D. ①④
17. 1865年美国发生的重大事件是 A. 独立战争爆发 B. 独立战争结束 C. 内战爆发 D. 内战结束
18. 1870年9月,巴黎人民推翻第二帝国后成立的共和国是 A. 法兰西第一共和国 B. 法兰西第二共和国 C. 法兰西第三共和国 D. 法兰西第四共和国
19. “萨拉热窝事件”成为下列哪次战争的导火索 A. 普法战争 B. 巴尔干战争 C. 第一次世界大战 D. 第二次世界大战
20. 罗斯福新政的主要特点是 A. 国家干预经济生活 B. 保持资本主义“自由企业制度” C. 缓和阶级矛盾 D. 提倡自由竞争
21. 当地球在公转轨道上位于远日点时 A. 我国北方地区处于寒冷干旱的季节 B. 我国南方地区处于高温多雨季节 C. 太阳直射北回归线 D. 北半球昼最长夜最短
22. 图1中四种气候类型,只分布于大洋东岸的是

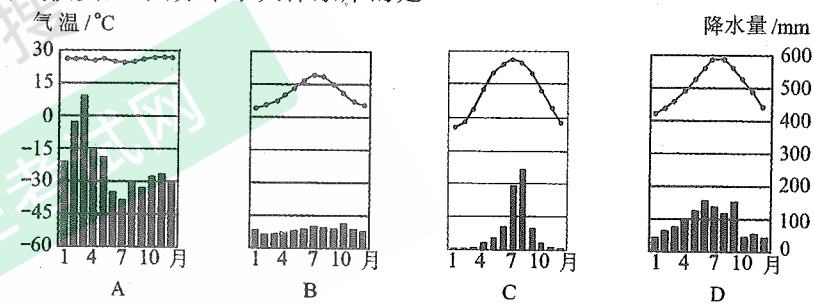


图1

- 23. 世界上输出农产品最多的国家是 A. 法国 B. 日本 C. 印度 D. 美国
24. 南纬40°附近海域全年盛行的洋流是 A. 秘鲁寒流 B. 季风环流 C. 西风漂流 D. 西澳大利亚寒流
25. 北京时间是5月1日5点时,中时区的区时是 A. 6月30日21点 B. 5月2日21点 C. 6月30日5点 D. 5月2日5点
26. 纬度不同,适宜生长的作物不同,例如 A. 苹果生长于亚热带 B. 甘蔗生长于热带、亚热带 C. 柑橘生长于温带 D. 甜菜生长于暖温带
27. 下列城市既是河港又是海港的是 A. 烟台、青岛 B. 上海、广州 C. 秦皇岛、武汉 D. 大连、哈尔滨
28. 与地中海气候相对应的自然带是 A. 温带落叶阔叶林带 B. 亚热带常绿阔叶林带 C. 亚热带落叶硬叶林带 D. 亚热带常绿硬叶林带
29. 关于印度的叙述,正确的是 A. 印度居民绝大部分属黄种人 B. 黄麻与茶叶产量均居世界首位 C. 印度河是该国主要灌溉水源 D. 加尔各答是印度最大的城市和棉纺织工业中心
30. 我国干湿地区的划分是根据 A. 降水量的多少 B. 径流量的多少 C. 蒸发量的多少 D. 降水量和蒸发量的关系
31. 位于包兰—兰新线附近的地理事物是 A. 甜菜、滩羊、三河马、三河牛等著名的农牧产品 B. 青海湖鸟岛自然保护区 C. 沿线有河套平原、宁夏平原、河西走廊等区域性的商品粮基地 D. 有我国著名的艺术宝库敦煌莫高窟和龙门石窟

32. 青藏高原粮食作物单产高的原因是 【 】
 A. 气温偏低 B. 降水量大
 C. 海拔高 D. 太阳辐射强, 昼夜温差大
33. 位于我国温带森林和温带草原景观分界线上的山脉是 【 】
 A. 秦岭 B. 大兴安岭 C. 阴山 D. 贺兰山
34. 有关山西能源开发的叙述, 正确的是 【 】
 A. 建设坑口电站, 实现西电东送 B. 开发利用汾河的水力资源
 C. 大力开发当地的石油和天然气资源 D. 建设核电站, 缓解能源紧张状况
35. 近年来中国人口老龄化的进程明显加快, 其主要原因是 【 】
 A. 平均寿命延长和人口自然增长率上升
 B. 人口自然增长率下降和生活水平提高
 C. 经济迅速发展和城市化水平提高
 D. 环境质量改善与人口素质提高
36. 塔中油田、小浪底水利枢纽、黄骅港、三峡工程所在的省区依次是 【 】
 A. 新疆、河南、河北、湖北 B. 新疆、山西、山东、湖北
 C. 青海、河南、天津、重庆 D. 甘肃、陕西、山东、四川
37. 图2中②地区气候干旱的最主要原因是 【 】
 A. 受副热带高压带控制
 B. 受西风的影响
 C. 受信风的影响
 D. 受赤道低气压带控制
38. 在图2中①②③④四地中, 位于小麦种植与养羊混合农业区的是 【 】
 A. ① B. ② C. ③ D. ④
39. 关于非可再生资源利用方式的叙述正确的是 【 】
 A. 节约和合理利用, 寻找和利用替代品
 B. 加强保护, 促进更新
 C. 严禁开采利用
 D. 全力开发, 充分利用
40. 下列现象不是由人为原因引起的是 【 】
 A. 水库大坝附近的土壤次生盐碱化 B. 南极上空的臭氧层出现空洞
 C. 我国东南沿海地区的台风 D. 我国东南丘陵地区的“红色沙漠”

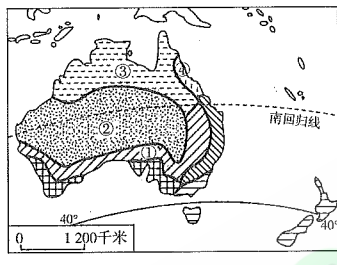


图2

第II卷(非选择题, 共70分)

得分	评卷人

二、非选择题: 41~46 小题, 共 70 分。

41. 阅读材料, 回答问题。(11分)

材料一

我们的口号是: 武装保卫平津, 保卫华北, 不让日本帝国主义占领中国寸土, 为保卫国土流最后一滴血! 全中国同胞、政府与军队团结起来, 筑成民族统一战线的坚固长城, 抵抗日本的侵略! 国共两党亲密合作, 抵抗日寇的新进攻! 驱逐日寇出中国!

——摘自《中国共产党为日本进攻卢沟桥通电》(1937年7月8日)

材料二

……我们既是一个弱国, 如果临到最后关头, 便只有拼全民族的生命以求国家生存……我们只有牺牲到底, 抵抗到底。

——摘自蒋介石《庐山谈话》(1937年7月17日)

材料三

中国今日郑重声明, 中国之领土主权, 已横受日本之侵略……中国决不放弃领土之任何部分, 遇有侵略, 惟有实行天赋之自卫权以应之。

——摘自《国民政府自卫抗战声明书》(1938年8月14日)

根据以上三个材料, 结合1937年7月至9月的形势, 说明抗日民族统一战线是怎样正式建立的。

42. 阅读材料, 回答问题。(12分)

材料一

中国代表顾维钧在巴黎和会上指出, 山东自古以来就是中国领土, 德国在山东的一切权利应直接归还中国。……中国代表团另提交了取消二十一条、直接收回山东权利的书面照会。

——摘自《六十年中国与日本》

材料二

(1919年)6月24日以后, 北京外交部接连电告代表团: 国内局势紧张, 人民要求拒签, 政府压力极大, 签字一事请陆总长(中国代表团团长)自行决定。……当时国内公众团体以及某些省份的省长们甚为焦急, 纷纷致电代表团, 坚请拒签。

——摘自《顾维钧回忆录》

材料三

因感觉大会对山东问题解决办法之不公平, 中国代表团曾于1919年5月4日对最高会议提出正式抗议, 并于5月6日声明保留。……媾和会议, 对于解决山东问题, 已不予中国以公道, 中国非牺牲其正义公道爱国之义务, 不能签字。

——摘自1919年6月28日《中国代表团宣言》

(1) 根据材料一、三, 简要分析巴黎和会的性质, 并简要评价中国代表团在会议上的外交努力。

(2) 从参加爱国运动的人员成分的变化简要分析“政府压力极大”的原因。

(3) 这场爱国运动的历史意义是什么?

43. 简述从1953年到1956年我国如何实现了由新民主主义时期向社会主义时期的过渡。(12分)

44. 读长江中下游图和美国五大湖地区图(图3), 回答下列问题。(10分)

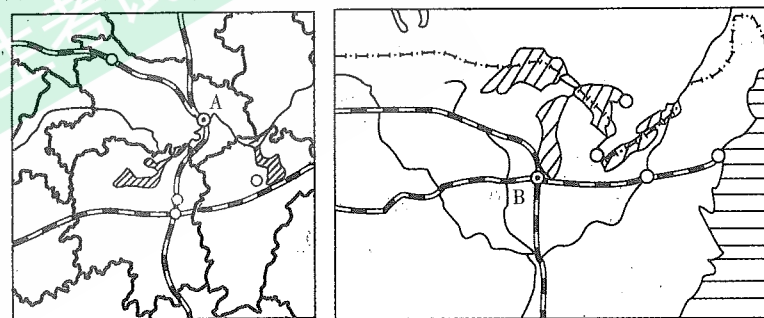


图3

(1) 两地的气候类型分别是: 长江中下游地区 _____; 五大湖地区 _____。

(2) 长江中下游地区是我国的 _____ 商品性农业生产基地; 五大湖周围属 _____ 农业带。

(3) 两地工业发展的有利条件共同之处是(至少四点): _____; _____; _____; _____。

(4) 填出图中字母代表的地理事物(城市)的名称: A _____; B _____。

45. 读图4, 回答下列问题。(13分)

(1) 填出图中字母代表的地理事物的名称:

- A. _____ 岛
 B. _____ 半岛
 C. _____ 半岛
 D. _____ 岛
 E. _____ 海

(2) B地气候类型为 _____, 沿40°N纬线由A岛北部向西至我国新疆地区, 气候呈现出 _____ 的趋势。

(3) A国家, F国家和D地区相同经济特点的是 _____; 其形成原因是 _____。

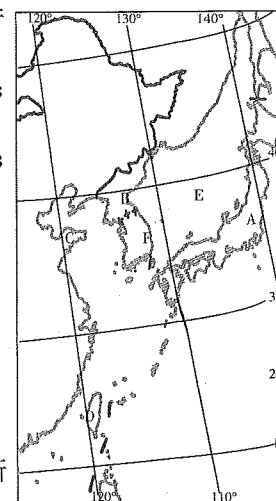


图4

密封线内不要答题

46. 图5表示我国各省级行政区水土流失的面积,读图完成下列要求。(12分)

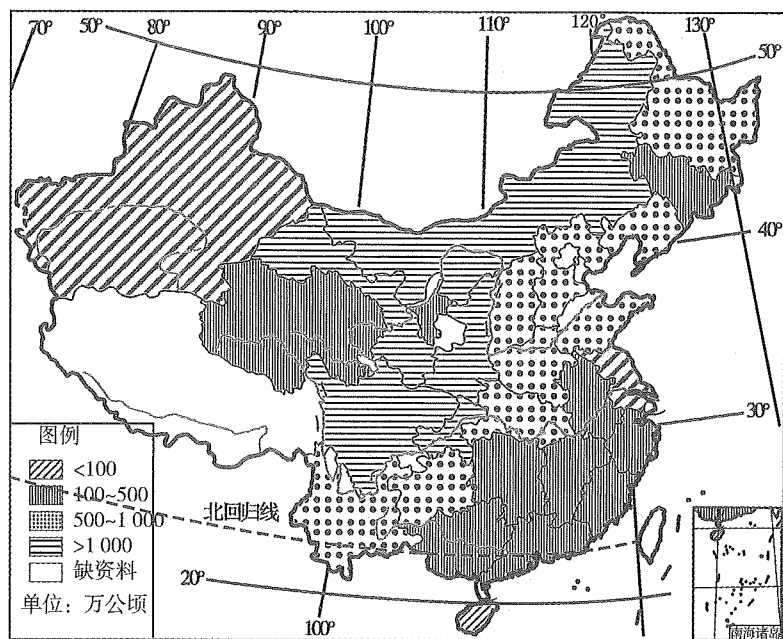


图5

- (1) 我国水土流失面积大于1 000万公顷的省级行政区主要有_____、_____、_____、_____、_____。
- (2) 新疆面积较大,但水土流失面积较小,其主要自然原因是_____。
- (3) 陕西省面积较小,但水土流失面积较大,其主要自然原因是_____,植被覆盖差,夏季多暴雨。

参考答案及解析

一、选择题

1.【答案】B

【应试指导】本题考查《齐民要术》的作者。生活在北魏和东魏时期杰出的农学家贾思勰,写出了农书——《齐民要术》。

2.【答案】B

【应试指导】本题考查张骞出使西域的相关知识点。在汉武帝时期曾派张骞出使西域,沟通了中西之间的交流,开辟了著名的“丝绸之路”。

3.【答案】D

【应试指导】本题考查唐代的租庸调制。唐代赋税制度规定,不去服役的农民可以纳绢或布代役,这个代役的布或绢叫庸。

4.【答案】A

【应试指导】本题考查世界上最早的纸币出现的时间。由于北宋时期的商品经济比隋唐时期更加发达、更加繁荣,贸易量大大增加。为了适应这种状况,北宋前期在四川地区首先出现了世界上最早的纸币——“交子”。

5.【答案】A

【应试指导】本题考查认为君主专制是“天下之大害”的思想家。黄宗羲是明末清初的进步思想家。他揭露君主“以天下之利尽归于己,天下之害尽归于人”,得出君主专制是“天下之大害”的结论。

6.【答案】B

【应试指导】本题考查清代军机处的设置。在清朝雍正时期设立了军机处,目的是加强皇权。军机处的设置,

标志着我国封建君主专制主义中央集权制发展到顶峰。

7.【答案】D

【应试指导】本题考查沙俄瓜分我国领土的史实。1858年,中俄《璦琿条约》签订,割去黑龙江以北60多万平方公里的中国领土;1860年,中俄《北京条约》签订,割去乌苏里江以东40余万平方公里的中国领土;1864年,中俄《勘分西北界约记》,割去中国西北44万多平方公里的领土;1881年,通过《改订伊犁条约》和5个勘界议定书,共割去7万平方公里领土。通过这一系列不平等条约,俄国共侵占中国领土150多万平方公里。

8.【答案】A

【应试指导】本题考查戊戌变法的相关知识。《马关条约》签订的消息传到北京,康有为和梁启超等知识分子联名上书光绪帝,请求变法图强,史称“公车上书”,这次上书,对清政府触动不大,但是却轰动了全国,拉开了戊戌变法运动的序幕。

9.【答案】C

【应试指导】本题考查孙中山的三民主义思想。驱除鞑虏、恢复中华、创立民国、平均地权,是同盟会的政治纲领,孙中山后来把它阐发为“民族”“民权”“民生”三大主义。民族主义包括“驱除鞑虏、恢复中华”两项内容,也就是要推翻清王朝,变半殖民地半封建的中国为独立自主的中国;民权主义即“创立民国”,也就是要推翻专制统治,建立资产阶级的民主共和国;民生主义的具体内容就是“平均地权”。

10.【答案】A

【应试指导】本题考查有关“九一八”事变的相关史实。日本帝国主义为了摆脱经济危机的困扰,趁国民党反动派“围剿”红军之际,在1931年9月18日,命令驻东北的关东军炸毁了南满铁路柳条湖段路轨,反诬中国军队破坏,并以此为借口制造了“九一八”事变。

11.【答案】D

【应试指导】本题考查国共两党革命统一战线正式建立的标志。中共三大的召开,标志着中共关于建立革命统一战线政策的正式形成,国民党一大的召开,标志着以国共合作为基础的革命统一战线的正式建立。

12.【答案】C

【应试指导】本题考查“文化大革命”结束的标志。1976年10月,华国锋、叶剑英等代表党中央一举粉碎了“四人帮”集团,宣告了“文化大革命”的结束。

13.【答案】A

【应试指导】本题考查18世纪中期的最大殖民帝国。由于英国资本主义经济发展比较早,资产阶级在17世纪后期就确立了在国内的统治地位、优越的海上地理位置、很早就积极开展海上活动等,英国在打败荷兰和法国以后,逐步确立了世界殖民霸权的地位。

14.【答案】D

【应试指导】本题考查《人权宣言》的内容。《人权宣言》宣称:自由、平等是天赋的人权(反对等级制度和封建特权);私有财产是神圣不可侵犯的(保护资产阶级的经济利益,反对封建特权的敲诈勒索);法律面前人人平等(反对封建特权,建立资本主义的法制社会)。

15.【答案】D

【应试指导】本题考查二战后世界形势变化的特点。第二次世界大战后,随着北约和华约两大集团的建立,世界形势呈现出美苏争霸的两极格局状态。

16.【答案】C

【应试指导】本题考查沙皇彼得一世改革的目的。1689年,沙皇彼得一世进行改革,改革的目的是满足向外扩张领土的野心,使俄国成为一个军事强国。

17.【答案】D

【应试指导】本题考查关于美国内战结束的知识点。1861年,美国内战爆发,1865年,美国南方军队投降,至此,美国内战结束。

18.【答案】C

【应试指导】本题考查法兰西第三共和国。1870年,法国在与普鲁士的战争中遭到惨败,巴黎人民起义,推翻了第二帝国的统治,建立了共和国,即法兰西第三共和国。

19.【答案】C

【应试指导】本题考查关于第一次世界大战的导火线的知识点。1914年6月的萨拉热窝事件成为第一次世界大战的导火线。

20.【答案】A

【应试指导】本题考查罗斯福新政的主要特点。美国的罗斯福于1933年就任美国总统后,实行“新政”。“新政”的最大特点是采用国家干预经济的办法来消除经济危机。

21.【答案】B

【应试指导】本题考查地球公转等知识点。地球在公转轨道上位于远日点时是7月初,太阳直射点从北回归线向赤道移动,北半球虽然仍处在昼长夜短时期,但白昼在逐渐变短,此时我国正处于高温多雨的夏季。

- 22.【答案】B
【应试指导】本题考查世界主要气候类型的特点和分布等知识点。读图可知,图示气候类型分别为热带雨林气候、温带海洋性气候、温带季风气候和亚热带季风气候。四种气候类型中,温带海洋性气候只分布于大洋西岸。
- 23.【答案】D
【应试指导】本题考查世界粮食生产和分布等知识点。美国是世界上的农业大国,它生产的小麦、大豆、玉米、棉花等都位居世界前列,不仅满足本国需要,还大量出口,成为世界上输出农产品最多的国家。
- 24.【答案】C
【应试指导】本题考查世界洋流的分布规律等知识点。南半球由于陆地面积较小,海洋面积广,在南纬40°附近,受强大的西风吹拂作用,形成环绕整个南大洋的西风漂流。
- 25.【答案】A
【应试指导】本题考查世界区时的计算等知识点。北京位于东八区,而东八区与中时区相差8个小时,故当北京时间是5月1日5点时,中时区的区时是6月30日21点。
- 26.【答案】B
【应试指导】本题考查气候条件对农业生产的影响等知识点。光热条件对农作物种类的分布关系最密切,在不同的纬度,适宜生长不同的作物。苹果生长于暖温带;柑橘生长于亚热带;甜菜喜温凉气候,生长于中温带;甘蔗喜高温,生长于热带和亚热带。
- 27.【答案】B
【应试指导】本题考查我国重要的海港和河港等知识点。上海位于长江入海口,广州位于珠江入海口,两个港口既是海港,又是河港。
- 28.【答案】D
【应试指导】本题考查气候类型与自然带的关系等知识点。地中海气候分布在南北纬30°~40°之间的大陆西岸,它的特征是:夏季炎热干燥,冬季温和多雨,与之对应的自然带是亚热带常绿硬叶林带。
- 29.【答案】B
【应试指导】本题考查印度的概况等知识点。印度居民绝大部分属于白种人;恒河是印度主要的灌溉水源;孟买是印度最大的城市;加尔各答是印度最大的麻纺织工业中心。
- 30.【答案】D
【应试指导】本题考查我国的干湿地区等知识点。从气候的角度看,衡量一个地区的干湿状况,主要看降水量与蒸发量的对比关系。
- 31.【答案】C
【应试指导】本题考查我国重要的铁路干线和区域地理等知识点。从包头出发,经兰州,到新疆乌鲁木齐,试题中的三河马、三河牛、青海湖和龙门石窟等地理事物都不在此线附近。沿途经过的河套平原、宁夏平原、河西走廊分别是内蒙古、宁夏和甘肃省的商品粮基地。
- 32.【答案】D
【应试指导】本题考查影响我国青藏高原粮食作物单产的因素等知识点。青藏高原太阳辐射强,日照时间长,昼夜温差大,有利于农作物积累养分,所以农作物穗大粒重单产高。
- 33.【答案】B
【应试指导】本题考查我国季风区和非季风区的差异等知识点。大兴安岭位于季风区和非季风区的分界线上。在大兴安岭以东,植被为温带森林;在大兴安岭以西,植被为温带草原。
- 34.【答案】A
【应试指导】本题考查山西能源的开发等知识点。山西省的煤炭储量居全国第一位,有“煤海”之称。为了更加方便地利用山西的能源,因地制宜地在煤矿附近建设电站,把煤炭转换成电能,实现西电东送,供给京津唐地区。
- 35.【答案】B
【应试指导】本题考查我国人口老龄进程加快的原因等知识点。由于我国实行计划生育政策,人口自然增长率下降,再加上经济快速发展,人民生活水平得到提高。这使我国近年来人口老龄化的进程明显加快。
- 36.【答案】A
【应试指导】本题考查我国省区内的重大经济建设项目等知识点。塔中油田在新疆塔里木盆地;小浪底枢纽位于河南;黄骅港在河北的渤海岸边;三峡工程位于湖北省。
- 37.【答案】A
【应试指导】本题考查澳大利亚的气候类型及其形成原因等知识点。图中②地区属于热带沙漠气候,其形成的原因主要是该地区受副热带高压带控制,炎热干燥。
- 38.【答案】A
【应试指导】本题考查澳大利亚发达的农牧业等知识点。澳大利亚的农牧业主要分布在东南部和西南部,东南部是澳大利亚著名的混合农业区。

- 39.【答案】A
【应试指导】本题考查非可再生资源的利用方式等知识点。非可再生资源和可再生资源在利用方式上是不同的,对于可再生资源,如果使用不合理,也会成为非可再生资源,所以对可再生资源要科学利用,加以保护和促进更新;对非可再生资源,用一点少一点,因此要特别注意节约和合理利用,同时要不断寻找和利用新的替代品。
- 40.【答案】C
【应试指导】本题考查环境问题产生的因素等知识点。有许多环境问题是自然原因产生的,如台风就是一种自然灾害。
- 二、非选择题
41. (1)七七事变第二天,中共中央发表通电,呼吁建立抗日民族统一战线。
(2)中共提交国共合作宣言,并派周恩来同国民党谈判。
(3)蒋介石发表庐山谈话,表示准备抗战。
(4)8月13日日军进攻上海,国民政府被迫实行对日作战。
(5)根据国共两党协议,红军改编为八路军、新四军。
(6)9月,国民党公布国共合作宣言,蒋介石发表了承认共产党合法地位的谈话。这样,抗日民族统一战线正式建立。
42. (1)巴黎和会是一次帝国主义重新瓜分世界殖民地的分赃会议。中国代表团所做的斗争,表明了他们有维护民族利益、爱国的一面。但他们没有认识到和会的分赃掠夺的性质,这样的会议是不可能照顾殖民地半殖民地国家人民利益的。他们也没有认识到作为半殖民地的弱国是没有任何国际地位的,因此他们在会议上的外交斗争的失败是必然的。
(2)运动前期主要是青年学生参加的五四爱国运动,在6月5日以后变成了由工人阶级、工商业资产阶级和青年学生共同参与的爱国运动,大大加强了运动对社会政治、经济的影响,因此使北洋政府感到了极大压力。
(3)五四运动是中国近代史上最早由学生、工人和市民掀起的反帝反封建的革命斗争。站在运动前列的是青年学生,他们在运动中起了先锋作用。中国工人阶级在运动中发挥了主力军的作用。五四运动比辛亥革命具有更广泛的群众基础,它的伟大功绩在于“启导广大人民的觉悟,准备革命力量的团结”。五四运动是中国近代史上具有划时代意义的事件,标志着中国新民主主义革命的伟大开端。
43. (1)1953年党公布了过渡时期总路线,规定在一个相当长的时期内,逐步实现国家的社会主义工业化,逐步实现国家对农业、手工业、资本主义工商业的社会主义改造。
(2)第一个五年计划的实施,为过渡奠定了经济基础。
(3)1953—1956年,三大改造基本完成,实现了把生产资料私有制转变为社会主义公有制,我国生产资料私有制的社会主义改造取得了决定性胜利。
(4)1954年第一届全国人民代表大会制定了我国第一部社会主义类型宪法《中华人民共和国宪法》,使社会主义制度在法律上得到了确认。至此,我们完成了由新民主主义阶段向社会主义阶段的过渡,开始进入社会主义初级阶段。
44. (1)亚热带季风气候 温带大陆性气候
(2)粮、棉 乳畜
(3)水陆交通便利 矿产资源丰富 农业基础好 水资源丰富
(4)武汉 芝加哥
【应试指导】从左图中,可以认出湖北省、湖南省、江西省和武汉铁路枢纽,这一带属亚热带季风气候。江汉平原、洞庭湖平原和鄱阳湖平原是我国的商品粮基地,江汉平原还是我国的商品棉基地。右图中铁路线经过的城市B,位于密歇根湖附近,应为芝加哥。该地区属于温带大陆性气候,是美国著名的乳畜农业带。两地的工业都是在便利的水陆交通、丰富的矿产资源和水资源、发达的农业基础上建立起来的。
45. (1)本州 朝鲜 山东 台湾 日本
(2)温带季风气候 大陆性增强
(3)进口—加工—出口型经济 充分利用优越的海运条件和丰富的劳动力资源,进口原料进行加工,出口产品,发展外向型经济
46. (1)甘肃 四川 重庆 内蒙古自治区 陕西(简称也可)
(2)气候干旱
(3)地处黄土高原
【应试指导】根据各省省级行政区水土流失面积图和图例可知,我国水土流失面积大于1000万公顷的地区在内蒙古高原、黄土高原和四川盆地,主要有内蒙古自治区、陕西省、甘肃省、四川省和重庆市;地处西北的新疆维吾尔自治区以干旱为主,降水稀少。陕西省水土流失面积较大的原因是地处黄土高原,这里的黄土土质疏松,地面植被贫乏,并且夏季暴雨集中,降水强度大,造成严重的水土流失。

全国各类成人高等学校招生考试高起点历史地理

全真模拟(六)

本试卷分第I卷(选择题)和第II卷(非选择题)两部分。满分150分。考试时间120分钟。

Table with 4 columns: 题号, 一, 二, 总分, 统分人签字. Row 1: 题号, 一, 二, 总分, 统分人签字. Row 2: 分数, , , ,

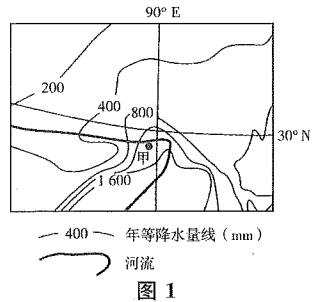
第I卷(选择题,共80分)

Table with 2 columns: 得分, 评卷人. Row 1: 得分, 评卷人. Row 2: ,

一、选择题:1~40题,每小题2分,共80分。在每小题给出的四个选项中,选出一项符合题目要求的。

- 1. 佛教传入我国的时间是 A. 西汉初年 B. 西汉末年 C. 东汉初年 D. 东汉末年
2. 秦王嬴政统一六国是在 A. 公元221年 B. 公元前221年 C. 公元前209年 D. 公元前206年
3. 4世纪下半期,东晋打败前秦的战役是 A. 官渡之战 B. 赤壁之战 C. 淝水之战 D. 土木堡之战
4. 下列各项不符合历史事实的是 A. 祖冲之是我国西汉著名的数学家 B. 《齐民要术》是北魏时期农学家贾思勰的著作 C. 王羲之是东晋时期的书法家 D. 《神灭论》是反对佛教的
5. 帮助唐朝平定安史之乱的少数民族是 A. 回纥 B. 突厥 C. 契丹 D. 吐蕃
6. 以下有关郑和下西洋的表达,错误的一项是 A. 发生在明成祖时期 B. 当时的西洋是指今天的大西洋 C. 先后7次航海,到达了30多个国家 D. 创造了世界航海史上的纪录
7. 洋务派建立的以下军事工业中,创办最早的是 A. 江南制造总局 B. 安庆内军械所 C. 天津机器局 D. 福州船政局
8. 标志着中国教育开始步入近代化的事件是 A. 《资政新篇》的颁布 B. 洋务派创办的一批新式学堂 C. 京师大学堂的建立 D. 《钦定学堂章程》的颁布
9. 五四运动后,在传播马克思主义方面影响最大的刊物是 A. 《每周评论》 B. 《湘江评论》 C. 《新青年》 D. 《天津学生联合会报》
10. 蒋介石发动“四一二”反革命政变起始的地点是 A. 武汉 B. 广州 C. 上海 D. 南京
11. 我国社会主义建设的第一个五年计划的时间是 A. 1950—1954年 B. 1953—1957年 C. 1952—1956年 D. 1954—1958年
12. 被国家授予新中国成立以来第一个特等发明奖的科学家是 A. 钱学森 B. 华罗庚 C. 邓稼先 D. 袁隆平

- 13. 意大利文艺复兴运动的先驱是 A. 彼德拉克 B. 达·芬奇 C. 但丁 D. 莎士比亚
14. 19世纪末20世纪初工业生产总产值居世界第一位的是 A. 美国 B. 德国 C. 英国 D. 日本
15. 控制国际联盟的国家是 ①美国 ②英国 ③法国 ④日本 A. ①② B. ②③ C. ①②③ D. ②③④
16. 为了宣传科学的革命理论,1846年马克思和恩格斯在布鲁塞尔建立了 A. 共产主义通讯委员会 B. 正义者同盟 C. 共产主义者同盟 D. 国际工人协会
17. 下列各项不属于日本明治维新内容的是 A. 废藩置县 B. 发展工商业 C. 锁国政策 D. 确认土地私有
18. 发现磁铁在线圈中运动能产生电流的科学家是 A. 爱迪生 B. 法拉第 C. 贝尔 D. 赫兹
19. 下列历史事件的先后顺序是 ①《华沙条约》的签订 ②杜鲁门主义的宣布 ③马歇尔计划的提出 ④北大西洋公约组织成立 A. ②③④① B. ③②①④ C. ④②①③ D. ①④②③
20. 下列各项中,对推动世界格局向多极化趋势发展有直接作用的事件是 A. 欧盟的成立 B. 华沙条约组织成立 C. 联合国的建立 D. 国际货币基金组织成立
21. 关于天体和天体系统的叙述正确的是 A. 天体由恒星和行星组成 B. 太阳因有巨大的质量而成为太阳系的中心 C. 银河系是宇宙的中心 D. 河外星系是目前人类能观测到的最高级别的天体系统
22. 地跨东、西两半球同时又跨两大洲的国家是 A. 巴拿马 B. 巴西 C. 俄罗斯 D. 加拿大
23. 图1是某地年降水量分布示意图,图中甲地附近地区降水量丰沛的原因是 A. 锋面活动频繁 B. 东南季风从海洋带来丰沛的水汽 C. 受台风活动影响,多暴雨 D. 位于山地迎风坡,多地形雨
24. 下列地理现象中,由地球自转产生的是 A. 昼夜更替现象 B. 四季变化 C. 昼夜长短的变化 D. 正午太阳高度的季节变化
25. 下列有关洋流对地理环境影响的叙述,正确的是 A. 澳大利亚东岸气候类型的形成受寒流的影响显著 B. 寒暖流交汇处往往会很快产生暴雨 C. 秘鲁附近由于寒暖流交汇而成为世界著名的渔场 D. 北大西洋暖流对西欧海洋性气候的形成有显著作用
26. 关于世界各洲分界线的叙述,正确的是 A. 南美洲和南极洲的分界线是麦哲伦海峡 B. 亚洲和非洲的分界线是波斯湾 C. 非洲和欧洲的分界线是土耳其海峡 D. 南美洲和北美洲的分界线是巴拿马运河
27. 日本的工业城市中,临近濑户内海的是 A. 东京、名古屋 B. 横滨、神户 C. 北九州、横滨 D. 大阪、神户
28. 被伊斯兰教、基督教、犹太教都看作“圣城”的是 A. 麦加 B. 耶路撒冷 C. 开罗 D. 德黑兰
29. 美国是世界上最大的工业国,有关美国工业分布的叙述,不正确的是 A. 南部地区是美国工业发展最早的地区 B. 西部地区工业主要集中在太平洋沿岸狭长地带 C. 东北部是美国钢铁、汽车、化学等工业分布集中的地区 D. 位于旧金山东南的硅谷,是美国电子工业发达的地区



得分	评卷人

二、非选择题:41~46小题,共70分。

30. 下列有关大洋洲的说法,正确的是
- A. 袋鼠、鸭嘴兽和斑马是澳大利亚大陆的珍稀动物
 - B. 大洋洲主要由大陆组成,岛屿很少
 - C. 新西兰由南北二岛组成,属于地中海气候
 - D. 大洋洲位于五大洲之间,是太平洋与印度洋之间的重要通道

31. 当北京处于高温多雨的季节时

- A. 开普敦处于炎热少雨季节
- B. 北印度洋盛行东北风
- C. 巴西热带草原到处一片枯黄
- D. 广东盛行西北风

32. 我国台湾地形多山地,主要是因为

- A. 地形多山
- B. 属于冲积岛
- C. 处在亚欧板块、太平洋板块碰撞处
- D. 处在印度洋板块、亚欧板块张裂处

33. 关于黄河的描述,正确的是

- A. 黄河的河套平原和山东境内是凌汛的经常发生地
- B. 黄河上游的壶口瀑布和龙门峡谷非常壮观
- C. 黄河的中游主要流经内蒙古高原和黄土高原
- D. 黄河下游的小浪底水利工程位于三门峡水利枢纽的北部

34. 关于图2的说法,正确的是




图2

- A. 山脉以北为黄土地,以南为红土地
- B. 山脉以北为内蒙古高原,以南为华北平原
- C. 山脉以北为准噶尔盆地,以南为塔里木盆地
- D. 山脉以北为高原,以南为盆地

35. 根据因地制宜的原则,下列区域种植农作物组合正确的是

- A. 鄱阳湖平原——春小麦、油菜
- B. 云贵高原——甜菜、水稻
- C. 松嫩平原——大豆、高粱
- D. 辽东半岛——橡胶、花生

36. 根据我国的国情,要提高人均粮食产量,必须

- A. 开垦荒地,增加耕地面积
- B. 发展生物技术,培育良种
- C. 走多种经营的道路
- D. 走粗放型的粮食生产道路

37. 我国土地资源、森林资源、矿产资源的共同特点是

- A. 类型或种类单一
- B. 在地区分布上都不均匀
- C. 在构成特点上大致相同
- D. 总量和人均占有量都很丰富

38. 以下四个地区,位于中温带的是

- A. 山东半岛
- B. 辽东半岛
- C. 内蒙古高原
- D. 洞庭湖平原

39. 华北地区发展经济的主要限制因素是

- A. 矿产资源
- B. 地形条件
- C. 交通条件
- D. 水资源

40. 关于城市发展和建设的说法,正确的是

- A. 世界的许多古典型城市大都分布在南美洲
- B. 世界的城市群主要分布在大洋洲
- C. 北京是中国政治、文化中心和国际交往城市
- D. 巴西、美国等国的政治中心也是经济中心

【 】

【 】

【 】

【 】

【 】

【 】

【 】

【 】

【 】

【 】

【 】

41. 阅读材料,回答问题。(11分)

材料一

(一)承认农民(雇农包括在内)是抗日与生产的基本力量。故党的政策是扶助农民,减轻地主的封建剥削……

(二)承认地主的大多数是有抗日要求的,一部分开明绅士并是赞成民主改革的。故党的政策仅是扶助农民减轻封建剥削,而不是消灭封建剥削,更不是打击赞成民主改革的开明绅士。

——《中共中央关于抗日根据地土地政策的决定》

材料二

没收地主阶级的土地,分配给无地少地的农民。这样,当作一个阶级来说,就在社会上废除了地主这一阶级,把封建剥削的土地所有制改变为农民的土地所有制。这样一种改革,诚然是中国历史上几千年来一次最大最彻底的改革。

——刘少奇《关于土地改革问题的报告》(1950年)

(1)材料一中的“扶助农民减轻封建剥削”指的是什么土地政策?这一土地政策的实行有什么成效?

(2)依据材料二说明土地改革的基本内容。为什么说这是一次“最彻底的改革”?

42. 阅读材料,回答问题。(12分)

材料一

“……英国……与德国……德国的商贩和英国的行商……在地球上每个角落里都彼此竞争。无数小冲突都会成为大战的借口,总有一天世界上会发生这种大战。假使德国明天从地面上被消灭掉,那么,后天在世界上就找不到一个不因此而更富的英国人。过去,各国为争夺某一城市或某种遗产而厮杀若干年,难道现在它们不应该为每年50亿英镑的商业收入而从事战争吗?”

——摘自英国《星期六评论》杂志(1897年)

材料二

“……我们十年前开始实行殖民政策而未拥有舰队,并且发展这个政策而不同时采取步骤建立一个舰队,是愚蠢的。我们现在背上了大量的殖民属地,变成此前为英国所无懈可击的德国的唯一的弱点,因为这些殖民属地使我们与英国继续不断地发生或大或小的纠纷,而英国在不久以后一定要宣告我们在海上是完全无能的。……”

——摘自德皇威廉致德国首相电(1896年)

(1)英、德之间的矛盾表现在哪些方面?

(2)为了解决这些矛盾,英、德都采取了哪些政策?

43. 中华人民共和国成立后,为巩固新生政权,党和人民群众进行了怎样的斗争?(12分)

44. 读太阳光照图(图3),完成下列要求。(10分)

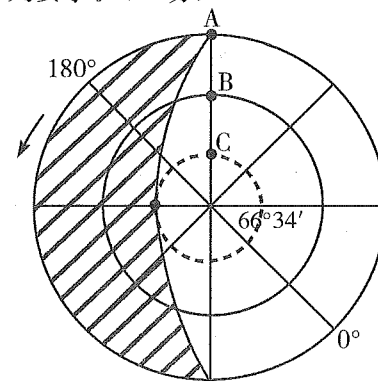


图3

密封线内不要答题

- (1)图中所示为_____半球俯视图,此日是_____月_____日前后。
 (2)此时太阳直射点的经度为_____、纬度为_____。
 (3)A、B、C三点比较,白昼最长的是_____;自转线速度最大的是_____。
 (4)此日,北京时间为_____点;北京的气候特点是_____。

45.读图4,完成下列要求。(13分)



图4

- (1)著名的石油生产国:A _____;B _____;C _____。
 (2)著名的蔗糖生产国:D _____;E _____。
 (3)F _____海;G _____运河。
 (4)A国农业生产的特点是_____和_____,成为世界上输出_____最多的国家。

46.读图5,回答问题。(12分)

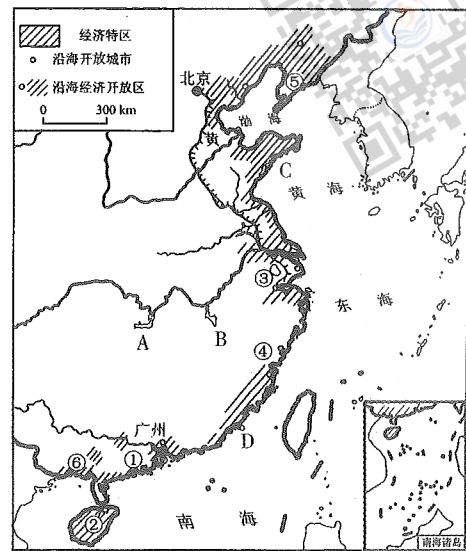


图5

- (1)在图中代码①②③④⑤⑥中,既代表我国老工业基地又代表我国重工业基地的是_____,该基地重要工业中心有_____、_____、_____。
 (2)在图中代码①②③④⑤⑥中,代表我国结构最完整、规模最大的工业基地的是_____,该基地中最大工业中心布局的优势是_____。
 (3)填出图中下列符号代表的地理事物名称:商品粮生产基地名称:A _____,B _____;C _____海港,D _____海港。
 (4)图中③附近地区主要的粮食作物是_____,该地区发展农业有利的自然条件是_____。

参考答案及解析

一、选择题

- 【答案】B
【应试指导】本题考查佛教传入我国的时间。佛教产生于古代印度。西汉末年,佛教传入我国中原地区,对中国文化的发展,产生了深远的影响。
- 【答案】B
【应试指导】本题考查秦王嬴政统一六国的时间。公元前230—公元前221年,秦王嬴政灭掉六国,建立了历史上第一个统一的、多民族的、中央集权的封建王朝——秦朝。
- 【答案】C
【应试指导】本题考查有关淝水之战的知识点。4世纪后半期,氏族贵族建立的前秦统一了黄河流域,383年,前秦与东晋在淝水交战,前秦军队大败溃逃。淝水之战是一次以少胜多的著名战役,战后不久,前秦统治瓦解。
- 【答案】A
【应试指导】本题考查我国魏晋南北朝时期的文化。祖冲之是我国南朝时期的数学家,在世界上第一次把圆周率的数值准确到小数点以后的七位数字。
- 【答案】A
【应试指导】本题考查安史之乱的平定的史实。回纥出兵帮助唐朝将领郭子仪、李光弼收复长安、洛阳,平定了“安史之乱”。
- 【答案】B
【应试指导】本题考查郑和下西洋的相关史实。明朝时期的西洋是指今天文莱以西的南洋和印度洋沿岸一带,并非指今天的大西洋。
- 【答案】B
【应试指导】本题考查洋务派创办的军事工业。洋务派创办的比较重要的军事工业有:曾国藩创设的安庆内军械所(1861年),李鸿章建立的江南制造总局(1865年),左宗棠开办的福州船政局(1866年)和满洲贵族崇厚经营的天津机器制造局(1867年)。
- 【答案】B
【应试指导】本题考查中国教育开始步入近代化的标志。《资政新篇》是近代中国第一个提出发展资本主义的理论著作;京师大学堂是维新变法的一项重要举措,也是近代教育发展史上一个重要事件;而洋务派创办的一批新式学堂则标志着中国教育开始步入近代化。
- 【答案】C
【应试指导】本题考查五四运动后,传播马克思主义影响最大的刊物。1915年陈独秀在上海创办的《新青年》,不仅是新文化运动的主要阵地,也是运动后期宣传马克思主义的主要刊物。1923年6月至1926年期间成为中国共产党中央的机关刊物。
- 【答案】C
【应试指导】本题考查“四一二”反革命政变的相关知识。1927年4月12日,蒋介石指使全副武装的流氓冒充工人,袭击上海工人纠察队,开枪打死、打伤工人并占领上海总工会。
- 【答案】B
【应试指导】本题考查我国实行第一个五年计划的时间。1953年,中国共产党提出了过渡时期的总路线。中央人民政府据此制定了建设社会主义的第一个五年计划,由此开始进行“一五”计划的建设。
- 【答案】D
【应试指导】本题考查被国家授予新中国成立以来的第一个特等发明奖的科学家。1974年,我国以袁隆平为核心的研究小组育成了世界上第一批强优势杂交水稻,为我国农业生产带来了大幅度、大面积的增产,是我国也是世界农业科研中的一项重大成果。袁隆平被誉为“中国杂交水稻之父”。1981年,他获得中国第一个特等发明奖。
- 【答案】C
【应试指导】本题考查意大利文艺复兴运动的先驱。意大利文艺复兴的代表人物有但丁、达·芬奇和莎士比亚等,其中,但丁是文艺复兴运动的先驱。
- 【答案】A
【应试指导】本题考查19世纪末20世纪初工业生产总值居世界第一位的国家。美国的工业总产值在19世纪中期为世界第四位,但到1894年却上升为第一位。

15. 【答案】B
【应试指导】本题考查控制国际联盟的国家。建立国际联盟的建议虽然是由美国总统威尔逊首先提出来的,但是美国政府因为巴黎和会的结果对美国不利,拒绝批准《凡尔赛和约》,也拒绝参加国联。国联实际上由英法操纵。
16. 【答案】A
【应试指导】本题考查共产主义通讯委员会的建立。1846年,马克思和恩格斯等在布鲁塞尔建立了共产主义通讯委员会,同时,他们还同正义者同盟保持经常联系。
17. 【答案】C
【应试指导】本题考查日本明治维新的内容。明治维新的主要内容包括:(1)政治方面,废藩置县,加强中央集权,建立新的体制。(2)经济方面,改革土地制度,承认土地私有;引进西方先进技术,大力发展近代资本主义工商业。
18. 【答案】B
【应试指导】本题考查与法拉第的电磁感应原理相联系的知识点。1831年,法拉第发现了磁铁在线圈中运动能产生电流,最终发现了电磁感应原理,为人类利用电能提供了科学依据。
19. 【答案】A
【应试指导】本题考查与冷战有关的历史史实。①发生于1955年5月,②发生于1947年3月,③发生于1947年6月,④发生于1949年。
20. 【答案】A
【应试指导】本题考查欧盟的成立对世界格局的影响。欧盟的成立不但有利于成员国经济的发展和欧洲的稳定,而且大大提高了欧洲的国际地位,并对新的世界格局变化产生了重要影响。
21. 【答案】B
【应试指导】本题考查宇宙中基本的天体和天体系统等知识点。宇宙中的星体统称为天体;银河系是人类已知宇宙的成员之一,不是宇宙的中心;总星系是目前人类能观测到的最高级别的天体系统。
22. 【答案】C
【应试指导】本题考查东、西半球的划分和七大洲的界线等知识点。巴拿马虽然地跨南美洲和北美洲,但在同一半球——西半球;巴西位于南美洲,属于西半球;加拿大位于北美洲,属于西半球;俄罗斯地跨东西两半球,同时又地跨亚洲和欧洲两大洲。
23. 【答案】D
【应试指导】本题考查降水的类型等知识点。根据图中的经纬度可判断,该地区位于西藏东南部,主要受西南季风影响,且该地位于山地迎风坡,多地形雨。
24. 【答案】A
【应试指导】本题考查地球自转的地理意义等知识点。地球自转的地理意义:(1)产生了昼夜更替现象;(2)不同经度的地方有不同的地方时;(3)使物体水平运动的方向产生偏向,在北半球向右偏,在南半球向左偏,赤道上无偏转。地球公转的地理意义:(1)正午太阳高度的变化;(2)四季更替;(3)昼夜长短的变化。
25. 【答案】D
【应试指导】本题考查洋流对地理环境的影响等知识点。澳大利亚西岸气候类型的形成受寒流影响显著;寒暖流交汇处往往会形成雾;秘鲁附近有秘鲁寒流流经——它属于上升流,从而形成世界著名的渔场。
26. 【答案】D
【应试指导】本题考查世界七大洲的分界线等知识点。南美洲与南极洲的分界线是德雷克海峡;亚洲和非洲的分界线是苏伊士运河;非洲和欧洲的分界线是直布罗陀海峡。
27. 【答案】D
【应试指导】本题考查日本工业分布的特点等知识点。临近濑户内海的城市是大阪和神户。
28. 【答案】B
【应试指导】本题考查世界主要宗教的分布等知识点。耶路撒冷被伊斯兰教、基督教、犹太教称为“圣城”。
29. 【答案】A
【应试指导】本题考查美国主要的工业区等知识点。美国东北部工业区是该国工业发展最早的地区。
30. 【答案】D
【应试指导】本题考查大洋洲的概况等知识点。斑马是非洲大陆的珍稀动物;大洋洲位于亚洲、非洲、南美洲、北美洲、南极洲之间,周围为太平洋和印度洋所环绕;大洋洲包括澳大利亚大陆、塔斯马尼亚岛、新西兰南北二岛、新几内亚岛以及太平洋上的许多岛屿;新西兰属于温带海洋性气候。
31. 【答案】C
【应试指导】本题考查世界主要的气候类型及其特征等知识点。当北京处于高温多雨的季节时,南非的开普敦(地中海气候),正值温和多雨的冬季;北印度洋盛行西南季风;广东一带盛行偏南风;巴西草原正值冬季,干燥少雨,树木落叶,到处枯黄。
32. 【答案】C
【应试指导】本题考查六大板块及其运动等知识点。台湾岛位于亚欧板块和太平洋板块的碰撞处,地壳活动比较活跃,多火山、地震。
33. 【答案】A
【应试指导】本题考查黄河的水文特征、黄河的综合利用等知识点。壶口瀑布和龙门峡谷位于中游;黄河流经的内蒙古高原河段属于上游;小浪底水利枢纽位于三门峡水利枢纽的东部。
34. 【答案】D
【应试指导】本题考查秦岭—淮河一线的南北差异等知识点。根据图中信息可以确定该山脉是秦岭。秦岭以北为黄土高原,以南为四川盆地。四川盆地的土壤为紫色土。
35. 【答案】C
【应试指导】本题考查我国粮食作物、经济作物的分布等知识点。春小麦、甜菜、大豆、高粱是东北地区种植的作物;鄱阳湖平原粮食作物以水稻为主,橡胶则主要是热带地区种植的作物。

36. 【答案】B
【应试指导】本题考查农业技术对农业生产的影响等知识点。我国可开垦的耕地不多,要想提高人均粮食产量,必须走科技兴农的道路,依靠提高单位面积产量来实现。
37. 【答案】B
【应试指导】本题考查我国自然资源的特点等知识点。我国的自然资源虽然各具特色,但在地区分布上都不均匀。
38. 【答案】C
【应试指导】本题考查我国的温度带等知识点。山东半岛、辽东半岛位于暖温带;洞庭湖平原位于亚热带。
39. 【答案】D
【应试指导】本题考查我国区域发展的主要问题等知识点。华北地区人口密集,经济发展水平较高。由于我国降水量的分布规律是南多北少,华北地区的降水量较少,加上人类活动的需求量较大,导致水资源成为制约该地区经济发展的主要因素。
40. 【答案】C
【应试指导】本题考查城市的形成和发展等知识点。许多古典型城市主要分布在亚洲和欧洲;世界的城市群主要分布在亚洲、欧洲和美洲;巴西和美国的政治中心和经济中心是分开的。
- 二、非选择题
41. (1)这是中国共产党在抗日战争时期实行的“地主减租减息、农民交租交息”的土地政策。这一政策减轻了地主的封建剥削,改善了农民的物质生活,提高了农民抗日和生产的积极性,也有利于联合地主阶级共同抗日。
- (2)材料二反映的是中华人民共和国成立后所进行的土地改革运动。根据《中华人民共和国土地改革法》的规定,土地改革的基本内容是:废除封建剥削的土地所有制,实行农民阶级的土地所有制。至1952年底,除少数地区外,全国已基本完成了土地改革。这次土地改革,彻底废除了在我国延续了数千年的封建剥削的土地制度;广大农民成了土地的主人,在政治上、经济上翻了身;解放了农村的生产力,为农业生产的发展和农业工业化开辟了道路。
42. (1)商业贸易的竞争,争夺殖民地,海军军备竞争,争夺世界霸权。
(2)英国:继续强占殖民地;协调与法俄之间的矛盾,形成三国协约;增加军费,扩充军备,并同德国开展海军军备竞赛。
德国:继续侵略扩张,支持奥匈争夺巴尔干地区,并同奥匈订立同盟条约,随后意大利加入,形成以德国为核心的三国同盟;增加军费,扩军备战,并同英国开展海军竞赛。
43. (1)解放全国,彻底完成民主革命的任务。
(2)各地召开各界人民代表会议,建立各级地方人民政府。
(3)进行了抗美援朝运动,保卫了中国安全;进行了镇压反革命运动,粉碎了阶级敌人的复辟阴谋;进行了土地改革运动,废除了封建剥削的土地制度,巩固了工农联盟。
(4)进行“三反”“五反”运动,加强市场管理,使国民经济得到根本好转。
44. (1)北 6 22
(2)45°E 23°26'N
(3)C A
(4)17 高温多雨
【应试指导】本题是对地球运动有关知识的综合性考查,解答这类题型的关键有三条:(1)在地球极点图上会根据地球自转方向确定南极点或者北极点。如本图地球自转方向呈逆时针,则中心点为北极点。(2)夏至日和冬至日时,太阳直射点的位置。本图中,北极圈内全为白昼,这一天应是6月22日前后,太阳直射点在北回归线上。(3)不同纬度上昼夜长短变化的规律。在极点图上,昼半球的中线是太阳直射的经线,该经线上的时间是正午12点。
45. (1)美国 墨西哥 委内瑞拉
(2)古巴 巴西
(3)加勒比 巴拿马
(4)现代化 地区生产专业化 农产品
【应试指导】解答本题的关键是在图上进行国家定位。根据图形轮廓,A是美国,B是墨西哥,C是委内瑞拉,D是古巴,E是巴西。
46. (1)⑤ 沈阳 大连 鞍山
(2)③ 海陆交通便利;劳动力资源丰富;科技力量雄厚;区内农业发达
(3)洞庭湖平原 鄱阳湖平原 青岛 厦门
(4)水稻 雨热同期,热量充足,降水丰富;水源充足;地形平坦;土壤肥沃
【应试指导】本题考查我国沿海工业基地、工业中心、海港的分布,以及农业区位因素等知识点。我国老工业基地有多个,其中重工业基地是辽中南重工业基地,即图示中数字⑤,该工业基地的主要工业中心是:沈阳、鞍山、大连等。我国工业部门结构最完整、规模最大、技术水平最高、效益最好的是沪宁杭工业基地。该基地以上海、南京、杭州为主要工业中心,工业发展历史悠久,工业基础好,从业人员的技术水平比较高,大专院校和科研部门多。基地交通便利,陆上、海上、内河航运均发达,人口密集,劳动力资源丰富,农业发达,为工业发展提供原料及农副产品。长江南岸的两个商品粮基地分别是紧临两大湖的洞庭湖平原和鄱阳湖平原。山东半岛南部著名的港口是青岛港;图中位于台湾海峡南部的海港是福建的厦门港。图中③所在地区为长江三角洲地区,主要的粮食作物应是水稻,农业发展的优势自然条件从气候、地形、土壤、水文等方面分别回答,该地处于亚热带季风气候区,优势气候条件是雨热同期、水热资源丰富;位于长江三角洲地区,地形平坦、土壤肥沃;从水文角度看,这里河湖众多,水资源丰富。